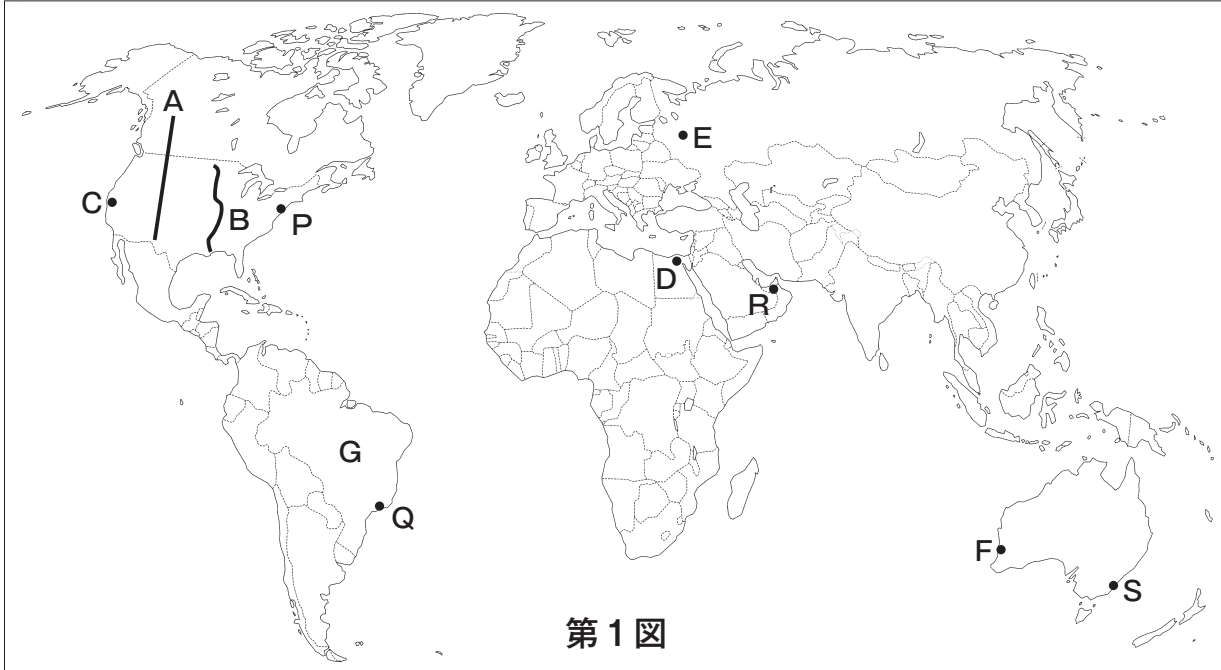




京都成章高等学校
社

令和2年度 入学試験問題
会

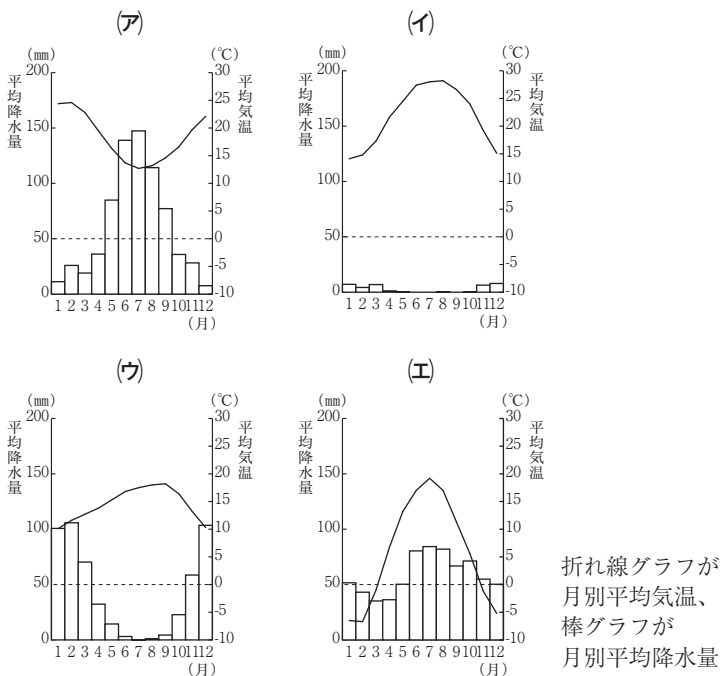
1. 世界地理に関する以下の問(1)~(6)に答えなさい。



(1) 第1図中のA山脈とB川の名称の組み合わせとして正しいものを、下の(ア)~(エ)から一つ選び、記号で答えなさい。

- (ア) アルプス山脈-ドナウ川 (イ) ロッキー山脈-ミシシッピ川
(ウ) アンデス山脈-アマゾン川 (エ) ヒマラヤ山脈-ガンジス川

(2) 次の4つの図は、第1図中のC~Fのいずれかの都市の月別平均気温と月別平均降水量を示した雨温図である。Cの雨温図を、下の(ア)~(エ)から一つ選び、記号で答えなさい。



「理科年表」より作成

(3) 近年シェールガスの開発が進み、天然ガスの産出量が世界でも多い国を、下の(ア)~(エ)から一つ選び、記号で答えなさい。

- (ア) アメリカ合衆国 (イ) ドイツ
(ウ) インド (エ) スペイン

(4) 第1図中のG国における人口と、最も多くの人に使用されている言語の組み合わせとして正しいものを、下の(ア)~(エ)から一つ選び、記号で答えなさい。

	(ア)	(イ)	(ウ)	(エ)
人口	2億766万人	2億766万人	6706万人	6706万人
言語	ポルトガル語	フランス語	ポルトガル語	フランス語

人口の統計年次は2017年 「地理統計」より作成

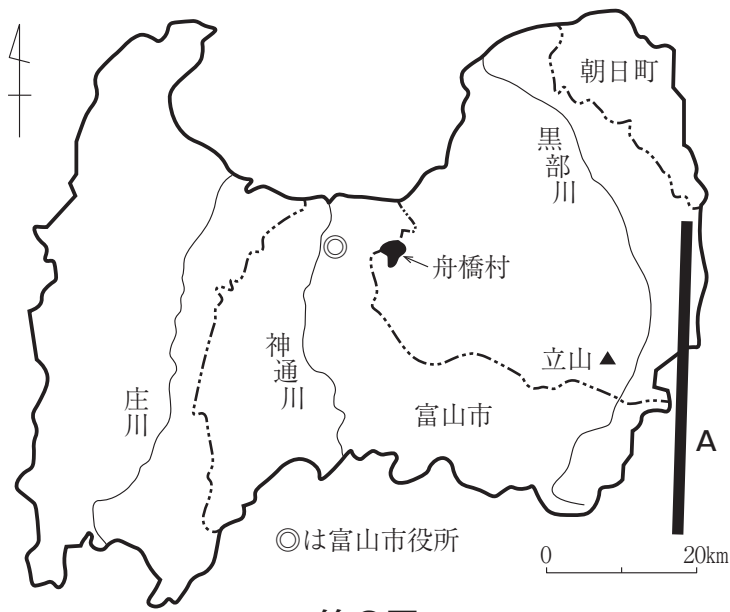
(5) 第1図中のG国において、生産量が世界第1位である農産物の組み合わせとして正しいものを、下の(ア)~(エ)から一つ選び、記号で答えなさい。

- (ア) ブドウ・オリーブ (イ) 茶・天然ゴム
(ウ) さとうきび・コーヒー豆 (エ) 米・小麦

(6) 次の4つの文は、第1図中のP~Sのいずれかの都市について述べたものである。Rについて述べた文を、下の(ア)~(エ)から一つ選び、記号で答えなさい。

- (ア) イギリス植民地時代から港湾都市として発展した。ヨーロッパ以外からの移民を制限する政策を撤廃し、アジアからの移民が増加している。
(イ) アジアなどからやってきた出かせぎ労働者を使って、世界で最も高い828mの高層ビルが建設され、木の形をした人工島が造成されている。
(ウ) マンハッタン島に国際連合の本部や金融の中心地であるウォール街があり、世界の政治と経済の中心地になっている。
(エ) 毎年大規模なカーニバルが開催される。コルコバードの丘にキリスト像が立っている。山の斜面にはスラムが広がっている。

2. 富山県について述べた文と第2図に関する下の問(1)~(11)に答えなさい。



第2図

富山県は日本海側に位置しているので、(a)気候に大きな特徴がある。東、南、西の三方を山で囲まれており、特に東部の **A** 山脈は高く険しい山が連なる。(b)県内には大きな河川が複数流れている。(c)庄川と神通川は隣の県から流入している。(d)黒部川は県内のみを流れている。

県の中央部には平野が広がり、稲作がさかんである。富山県は (e)農業産出額に占める米の割合が47都道府県の中で最も高い。また、県の花に指定されているチューリップなど (f)花の栽培が行われており、チューリップの球根の生産量は47都道府県の中で最も多い。

富山県は (g)工業がさかんである。全国に家庭に薬を売る「富山の売薬」は長い歴史を持ち、医薬品の生産金額は47都道府県の中で第1位である(2016年)。アルミサッシ製造などのアルミニウム加工業も有名である。高岡市では、江戸時代から高岡銅器と呼ばれる (h)伝統的工芸品の製造が行われている。

富山県は観光業にも力を入れている。黒部峡谷や立山には多くの観光客が訪れる。2015年3月に (i)北陸新幹線が金沢まで開業して交通の便が改善されたことによって観光客のさらなる増加が期待されている。

富山県の人口は106万人である。農村部を中心に人口減少と少子高齢化が進んでいる。県庁所在都市である富山市の人口は41.8万人であり、県全体の39.5%を占めているが、富山市でも人口は減少している。今後は農村部だけでなく都市部における人口構成や (j)生活様式の変化も予想される。(人口の統計年次は2017年)

(1) 文章中の **A** にあてはまる山脈の名称を、下の(ア)~(エ)から一つ選び、記号で答えなさい。

- (ア) 奥羽 (イ) 筑紫 (ウ) 飛騨 (エ) 日高

(2) 下線部(a)について、富山市の真南に位置し、太平洋に面している愛知県田原市と富山市の気候を比較した。次の表は、両市における月別の平均気温と降水量と日照時間(太陽が照った時間数)を示したものである。表の数値から読みとれることを説明した文として **適当でないもの**を、下の(ア)~(エ)から一つ選び、記号で答えなさい。

	月平均気温 (単位:℃)		月降水量 (単位:mm)		月間日照時間 (単位:時間)	
	富山	田原	富山	田原	富山	田原
1月	2.7	5.7	259.5	59.3	68.1	180.0
2月	3.0	6.0	172.1	69.4	86.3	175.3
3月	6.3	9.0	158.5	120.6	131.3	192.7
4月	12.1	14.1	122.2	133.5	174.9	198.1
5月	17.0	18.4	134.2	168.8	191.1	197.4
6月	20.9	21.9	182.6	192.0	150.2	156.8
7月	24.9	25.6	240.4	146.1	147.1	192.6
8月	26.6	27.0	168.3	155.1	201.3	233.3
9月	22.3	24.0	220.2	239.7	133.1	164.3
10月	16.4	18.6	160.7	163.2	142.7	166.8
11月	10.8	13.2	234.4	105.2	102.8	164.8
12月	5.7	8.3	247.0	49.7	75.8	180.2

気象庁ホームページのデータより作成

- (ア) 平均気温の最も暖かい月と最も寒い月の差は、田原市より富山市の方が大きい。
- (イ) 富山市は平均気温の最も低い月が降水量の最も多い月になっている。
- (ウ) 富山市と田原市は、平均気温の最も高い月が日照時間の最も長い月になっている。
- (エ) 富山市と田原市は、降水量の最も多い月が日照時間の最も短い月になっている。

(3) 下線部(b)のような県を調べた。次の文章にあてはまる県名を、下の(ア)~(エ)から一つ選び、記号で答えなさい。

富士川と天竜川は隣の県から流入している。大井川は県内のみを流れている。

- (ア) 福島県 (イ) 静岡県 (ウ) 岡山県 (エ) 新潟県

(4) 下線部(c)の上流には、合掌造りの集落が世界遺産に登録されている五箇山がある。次に示した世界遺産の名称と所在する都道府県名の組み合わせとして **適当でないもの**を、下の(ア)~(エ)から一つ選び、記号で答えなさい。

- (ア) 屋久島-鹿児島県
- (イ) 白神山地-青森県・秋田県
- (ウ) 知床-北海道
- (エ) 紀伊山地の霊場と参詣道-徳島県

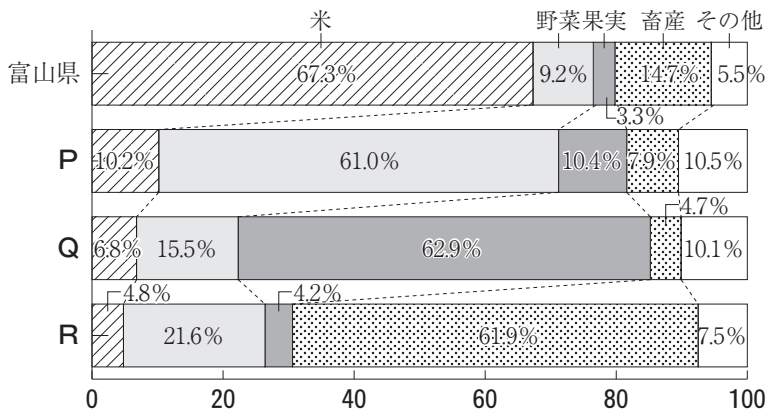
(5) 下線部(d)の上流にある黒部ダムでは水力発電が行われており、富山県は水力発電による発電量が最も多い県である。次の表は、水力、火力、地熱、風力のそれぞれの発電方式の中で、全国発電量に占める発電割合の高い上位4道県を示したものである。表中のS~Uは火力、地熱、風力のいずれかである。S~Uにあてはまる発電方式の正しい組み合わせを、下の(ア)~(カ)から一つ選び、記号で答えなさい。

	水力	S	T	U
第1位	富山県 10.7%	大分県 42.1%	青森県 16.1%	千葉県 13.0%
第2位	岐阜県 10.2%	秋田県 24.8%	北海道 11.7%	神奈川県 11.1%
第3位	長野県 9.5%	鹿児島県 11.8%	秋田県 10.2%	愛知県 8.9%
第4位	新潟県 7.7%	岩手県 10.5%	福島県 7.2%	兵庫県 7.1%

統計年次は2016年度 「電力調査統計」より作成

	S	T	U
(ア)	火力	地熱	風力
(イ)	火力	風力	地熱
(ウ)	地熱	火力	風力
(エ)	地熱	風力	火力
(オ)	風力	火力	地熱
(カ)	風力	地熱	火力

(6) 下線部(e)について、次の帯グラフは、4つの県における農業産出額に占める米、野菜、果実、畜産の割合を示したものであり、P~Rは和歌山県、高知県、宮崎県のいずれかである。P~Rにあてはまる県名の正しい組み合わせを、下の(ア)~(カ)から一つ選び、記号で答えなさい。



統計年次は2016年 「データでみる県勢 2019年版」より作成

	P	Q	R
(ア)	和歌山県	高知県	宮崎県
(イ)	和歌山県	宮崎県	高知県
(ウ)	高知県	和歌山県	宮崎県
(エ)	高知県	宮崎県	和歌山県
(オ)	宮崎県	和歌山県	高知県
(カ)	宮崎県	高知県	和歌山県

(7) 下線部(f)について、キクとバラの生産本数が最も多く、花の農業産出額が最も高い県を、下の(ア)~(エ)から一つ選び、記号で答えなさい。

- (ア) 愛知県 (イ) 広島県 (ウ) 長崎県 (エ) 宮城県

(8) 下線部(g)について、次の文章にあてはまる県名を、下の(ア)~(エ)から一つ選び、記号で答えなさい。

新居浜市には石油化学コンビナートがある。県の最東端に位置する都市では紙製品の製造がさかんである。県庁所在都市に隣接する今治市ではタオル製造などの地場産業がみられる。

- (ア) 山口県 (イ) 三重県 (ウ) 愛媛県 (エ) 宮崎県

(9) 下線部(h)などの地場産業がみられる府県について述べた文として適当でないものを、下の(ア)~(エ)から一つ選び、記号で答えなさい。

- (ア) 京都府では西陣織や清水焼が製造されている。
 (イ) 石川県では加賀友禅や輪島塗が製造されている。
 (ウ) 新潟県では小千谷ちぢみや洋食器が製造されている。
 (エ) 山形県では鉄瓶などの南部鉄器が製造されている。

(10) 下線部(i)によって所要時間が短くなった区間を、下の(ア)~(エ)から一つ選び、記号で答えなさい。

- (ア) 金沢-京都 (イ) 富山-長野
 (ウ) 福井-名古屋 (エ) 新潟-東京

(11) 下線部(j)について、次の表は、富山県、埼玉県、東京都と、第2図に示した富山市、富山市に隣接する舟橋村、朝日町のいずれかの市町村における、持ち家比率、昼夜間人口比率(夜間人口100人に対する昼間人口の割合)、水道普及率を示したものである。表中のE~Gは富山市、舟橋村、朝日町のいずれかである。第2図と3つの都県の数値を参考にして、表中のE~Gにあてはまる市町村の正しい組み合わせを、下の(ア)~(カ)から一つ選び、記号で答えなさい。

	持ち家比率	昼夜間人口比率	水道普及率
富山県	78.1%	99.8%	93.1%
埼玉県	67.0%	88.9%	99.8%
東京都	47.7%	117.8%	100.0%
E	71.3%	105.8%	99.3%
F	93.4%	88.5%	72.9%
G	93.4%	72.5%	99.0%

持ち家とは、建物と土地を所有しており、家賃を払う必要のない家。

統計年次は持ち家比率と昼夜間人口比率が2015年、水道普及率が2016年か2017年。

「国勢調査」、「100の指標 統計からみた富山」、「データでみる県勢 2019年版」より作成

	E	F	G
(ア)	富山市	舟橋村	朝日町
(イ)	富山市	朝日町	舟橋村
(ウ)	舟橋村	富山市	朝日町
(エ)	舟橋村	朝日町	富山市
(オ)	朝日町	富山市	舟橋村
(カ)	朝日町	舟橋村	富山市

3. 次のA～Eの各文章を読み、下の問(1)～(10)に答えなさい。

- A 桓武天皇は新しい都で政治を立て直そうとした。まず天皇は長岡京に都を移し、次いで **1** に都を移した。その後、^(a)藤原氏一族が他の貴族たちをしりぞけながら、力をのばした。藤原氏は、娘をときの天皇のきさきにし、その子どもを次の天皇に立てることで権力を握った。
- B ^(b)鎌倉幕府のおとろえをみた後醍醐天皇は、政治の実権を朝廷に取り戻すため、幕府を倒そうとした。楠木正成ら幕府の政治に不満を持つ武士や、有力な御家人の **2** を味方につけ、幕府を倒した天皇は、建武の新政とよばれる天皇中心の新しい政治を始めた。
- C 聖武天皇のころを中心とした、^(c)唐の文化と仏教の影響を強く受けた国際色豊かな文化を **3** という。東大寺の正倉院には聖武天皇の遺品が納められており、この文化の特徴をよく示している。
- D 中大兄皇子は中臣鎌足らと協力して、蘇我氏を倒して政権を握った。また、全国の土地と人民を国家のものとして天皇が直接支配する方針を示した。こうした一連の改革を大化の改新といい、のちに中大兄皇子は **4** 天皇として即位し、さらに改革を進めた。
- E 将軍 **5** は土佐藩のすすめで政権を朝廷に返上した。このできごとを大政奉還という。これに対して朝廷は王政復古の号令をだし、幕府を廃止して天皇を中心とする新政府の樹立を宣言した。翌年、新政府は年号を慶応から^(d)明治に改めた。

- (1) 文章中の空欄 **1** にあてはまる都の名前を、下の(ア)～(エ)から一つ選び、記号で答えなさい。
(ア) 難波宮 (イ) 大津宮 (ウ) 平城京 (エ) 平安京
- (2) 下線部(a)について、藤原氏が最も栄えたのは藤原道長と、その子藤原頼通のときであったが、この二人の時代の政治のしくみを、下の(ア)～(エ)から一つ選び、記号で答えなさい。
(ア) 院政 (イ) 執権政治 (ウ) 政党政治 (エ) 摂関政治
- (3) 下線部(b)について、鎌倉時代の文化について述べた文として正しいものを、下の(ア)～(エ)から一つ選び、記号で答えなさい。
(ア) 一遍は念仏の札を配って教えを広め、日蓮宗を開いた。
(イ) 紀貫之らによって『古今和歌集』がまとめられた。
(ウ) 東大寺南大門の金剛力士像のような写実的で力強い彫刻がつけられた。
(エ) 『源氏物語』のような合戦の様子を描いた軍記物語がつけられた。
- (4) 文章中の空欄 **2** にあてはまる人物の名前を、下の(ア)～(エ)から一つ選び、記号で答えなさい。
(ア) 足利尊氏 (イ) 平清盛 (ウ) 北条時宗 (エ) 今川義元

- (5) 下線部(c)について述べた文として正しいものを、下の(ア)～(エ)から一つ選び、記号で答えなさい。
(ア) 唐は南北朝の統一に成功した。
(イ) 唐では律令などの法律がつくられた。
(ウ) 唐は白村江の戦いで日本に敗れた。
(エ) 唐は隋によって滅ぼされた。
- (6) 文章中の空欄 **3** にあてはまる文化の名前を、下の(ア)～(エ)から一つ選び、記号で答えなさい。
(ア) 飛鳥文化 (イ) 国風文化
(ウ) 天平文化 (エ) 南蛮文化
- (7) 文章中の空欄 **4** にあてはまる天皇の名前を、下の(ア)～(エ)から一つ選び、記号で答えなさい。
(ア) 推古 (イ) 天智 (ウ) 白河 (エ) 天武
- (8) 文章中の空欄 **5** にあてはまる将軍の名前を、下の(ア)～(エ)から一つ選び、記号で答えなさい。
(ア) 徳川慶喜 (イ) 徳川綱吉
(ウ) 徳川家光 (エ) 徳川吉宗
- (9) 下線部(d)について、明治時代のできごとについて述べた文として誤っているものを、下の(ア)～(エ)から一つ選び、記号で答えなさい。
(ア) 鹿鳴館が建てられ、外国人を招いて舞踏会が開かれた。
(イ) 群馬県の富岡製糸場などの官営模範工場がつくられた。
(ウ) 伊藤博文が初代の内閣総理大臣に就任した。
(エ) 板垣退助を中心とした鹿児島の上級士族らが西南戦争を起こした。
- (10) A～Eの各文章を古いものから順に並べるとき、**3番目**にくる文章を、A～Eの記号で答えなさい。

4. 次の文章を読み、下の問(1)~(7)に答えなさい。

19世紀の初めの^(a)化政文化のころには浮世絵の技術が発達し、1の『東海道五十三次』などの風景画が人気を集めた。これらの作品は^(b)ヨーロッパの絵画にも大きな影響を与えた。このころ庶民の間にも教育への関心が高まり、町や農村に多くの2が開かれ、読み・書き・そろばんなどの実用的な知識や技能を教えた。各地に私塾ができ、長崎にあった^(c)オランダ商館で働いていたドイツ人医師のシーボルトは医学塾を開き、多くの人材を育てた。

19世紀後半の明治維新により近代国家へと歩み始めた日本に^(d)文明開化の波が押し寄せた。欧米風の新しい制度、思想や文物などが広く取り入れられた。明治時代の文学では^(e)日清戦争の前後に個人の感情などを重視するロマン主義が主流になった。20世紀の初めごろには、欧米の文化に向き合う知識人の視点から小説を発表する人物もあらわれた。『吾輩は猫である』や『坊っちゃん』を著した3はそうした小説家のひとりである。

近代文化が受容され、発展した背景には学校教育の普及がある。政府は1872年に学制を公布し、小学校から大学校までの学校制度を定めた。その後、政府は1890年には4を出し、忠君愛国を国民道徳の基本にすえ、教育のよりどころを示した。^(f)日露戦争後には義務教育は6年制に延長され、教育の基礎が固まった。

(1) 文章中の空欄1～4にあてはまる語句を答えなさい。

(2) 下線部(a)について述べた文として正しいものを、下の(ア)~(エ)から一つ選び、記号で答えなさい。

- (ア) 『一寸法師』などの御伽草子とよばれる絵本が作られた。
- (イ) 近松門左衛門が人形浄瑠璃の台本を書いた。
- (ウ) 与謝蕪村が俳諧を民衆のあいだに広めた。
- (エ) 十返舎一九が『南総里見八犬伝』という浮世草子を書いた。

(3) 下線部(b)について、ヨーロッパで起きたできごととして誤っているものを、下の(ア)~(エ)から一つ選び、記号で答えなさい。

- (ア) 宗教改革
- (イ) 南北戦争
- (ウ) 名誉革命
- (エ) ルネサンス

(4) 下線部(c)について、オランダは16世紀後半にスペインからの独立を宣言した国である。オランダの独立宣言より前のできごとを、下の(ア)~(エ)から一つ選び、記号で答えなさい。

- (ア) 北アメリカのイギリス植民地が独立宣言を発表した。
- (イ) フランスでナポレオンが権力を握り、皇帝の位についた。
- (ウ) パリ講和会議が開かれ、ベルサイユ条約が結ばれた。
- (エ) ローマ教皇が十字軍の派遣をよびかけ、多くの人々がこれに参加した。

(5) 下線部(d)について述べた文として誤っているものを、下の(ア)~(エ)から一つ選び、記号で答えなさい。

- (ア) 欧米と同じ太陽暦が採用された。
- (イ) レンガ造りの洋館が建設されるようになった。
- (ウ) ラジオ放送が始まり、全国に普及した。
- (エ) 福沢諭吉は人間の平等主義を自分の著書『学問のすゝめ』で説いた。

(6) 下線部(e)について、日清戦争以前の中国に関するできごとについて述べた文として誤っているものを、下の(ア)~(エ)から一つ選び、記号で答えなさい。

- (ア) アヘン戦争でイギリスに敗れ、南京条約を結んだ。
- (イ) 洪秀全が漢民族の国をつくろうと訴えて太平天国の乱をおこした。
- (ウ) 三民主義をとらえた孫文が中華民国臨時大總統に就任した。
- (エ) 日本と勘合貿易を行い、銅銭・生糸・絹織物などを輸出した。

(7) 下線部(f)について、日露戦争後に起きたできごとについて述べた文として正しいものを、下の(ア)~(エ)から一つ選び、記号で答えなさい。

- (ア) 樺太・千島交換条約が結ばれた。
- (イ) 韓国を併合した。
- (ウ) 日英同盟が結ばれた。
- (エ) 琉球処分が行われた。

5. 次の文章を読み、下の問(1)~(8)に答えなさい。

基本的人権の獲得は、人類の長年にわたる努力の成果であり、また、現代の社会の変化にともない^(a)新しい人権も認められてきている。日本国憲法では、国民の自由や権利を守るために **1** を採用し、国の権力が1つの機関に集中することを防いでいる。もし^(b)人権が侵害され、個人の力で解決が難しい場合は、憲法第32条で^(c)裁判を受ける権利が保障されている。

^(d)法に基づいて裁判を行う司法権は裁判所が担当し、公正な裁判の確保のため、裁判所や^(e)裁判官には司法権の独立が認められている。憲法は国の行為が憲法に違反していないかどうかを判断する **2** 権を裁判所に与えている。裁判所は、立憲主義の考え方にに基づき、国民の人権が保障されることを見守る重要な役割を果たしている。また、裁判には^(f)刑事裁判と民事裁判の2種類がある。

(1) 下線部(a)の例として誤っているものを、下の(ア)~(エ)から一つ選び、記号で答えなさい。

- (ア) 知る権利 (イ) プライバシーの権利
(ウ) 環境権 (エ) 教育を受ける権利

(2) 文章中の空欄 **1** にあてはまる文として最も適切なものを、下の(ア)~(エ)から一つ選び、記号で答えなさい。

- (ア) ルソーが『社会契約論』で提唱した人民主権
(イ) フランスのワイマール憲法で保障された人民主権
(ウ) イギリスのマグナ・カルタで確立された三権分立
(エ) モンテスキューが『法の精神』で提唱した三権分立

(3) 下線部(b)について、人権の一つである自由権を説明した文として誤っているものを、下の(ア)~(エ)から一つ選び、記号で答えなさい。

- (ア) 自分が正しいと思うことを表明すること。
(イ) 自分が安定した収入を得るために労働組合を結成すること。
(ウ) 自分が宗教を信仰するかどうかを決めること。
(エ) 自分の好きなことを職業に選び、営業すること。

(4) 下線部(c)は何権に含まれるか。下の(ア)~(エ)から一つ選び、記号で答えなさい。

- (ア) 請求権 (イ) 平等権
(ウ) 参政権 (エ) 生存権

(5) 下線部(d)について、日本の下級裁判所は何種類あるか。正しいものを、下の(ア)~(エ)から一つ選び、記号で答えなさい。

- (ア) 2種類 (イ) 3種類
(ウ) 4種類 (エ) 5種類

(6) 下線部(e)について述べた次の①~③の文の正誤をそれぞれ判断し、その組み合わせとして正しいものを、下の(ア)~(カ)から一つ選び、記号で答えなさい。

- ① 裁判官は、憲法と法律にのみ拘束され、良心に従って裁判を行う。
② 最高裁判所の裁判官に対しては、適任かどうかを国民が判断する国民投票が行われる。
③ 裁判官は、最高裁判所に設置される弾劾裁判所の決定以外で裁判官を辞めさせられることはない。

- (ア) ① - 正 ② - 正 ③ - 誤
(イ) ① - 正 ② - 誤 ③ - 正
(ウ) ① - 正 ② - 誤 ③ - 誤
(エ) ① - 誤 ② - 正 ③ - 正
(オ) ① - 誤 ② - 正 ③ - 誤
(カ) ① - 誤 ② - 誤 ③ - 正

(7) 文章中の空欄 **2** にあてはまる語句として正しいものを、下の(ア)~(エ)から一つ選び、記号で答えなさい。

- (ア) 違憲審査 (イ) 国政調査
(ウ) 社会 (エ) 請願

(8) 下線部(f)について、刑事裁判について述べた文として正しいものを、下の(ア)~(エ)から一つ選び、記号で答えなさい。

- (ア) 被疑者のうち、検察官によって裁判所に起訴された被告が刑事裁判で裁かれる。
(イ) 国民が裁判官と一緒に有罪・無罪や刑罰の内容を決める裁判員制度が導入されている。
(ウ) 憲法で残虐な刑罰は禁止されているため、死刑制度は認められていない。
(エ) 推定無罪の原則が確立されているため、えん罪事件は発生していない。

6. 次の文章を読み、下の問(1)~(8)に答えなさい。

(a)戦後の日本経済は、(b)景気変動を繰り返しながら、順調に経済成長を続けてきた。これを背景に日本の企業は外国の企業に比べて、雇用では **あ**、賃金については **い** を採用するのが一般的であった。しかし、(c)1990年代初め以降、日本経済が低迷期に入ったこと、さらに(d)グローバル化の進展による国際競争の激化などを背景に、企業の中には **う** に基づいた賃金制度を実施するところが増えてきた。また(e)企業は人件費を節約するために、非正規雇用を増やしている。さらに、少子高齢化の進行もあり2019年4月には **え** 新制度が始まった。このように日本における労働者の環境は大きく変化してきているが、こうした中で(f)労働者の権利をいかに守っていくかということが重要な課題となっている。

(1) 下線部(a)に関わる次の①~③を古いものから順に並べたものとして正しいものを、下の(ア)~(カ)から一つ選び、記号で答えなさい。

- ① いざなぎ景気 ②石油危機 ③所得倍増計画
 (ア) ① → ② → ③ (イ) ① → ③ → ②
 (ウ) ② → ① → ③ (エ) ② → ③ → ①
 (オ) ③ → ① → ② (カ) ③ → ② → ①

(2) 下線部(b)について、不景気の際、一般的に政府が行う財政政策や日本銀行が行う金融政策について述べた文として正しいものを、下の(ア)~(エ)から一つ選び、記号で答えなさい。

- (ア) 政府は公共事業を減らして、企業の生産を増やそうとする。
 (イ) 政府は増税を実施して、政府の歳入を増やそうとする。
 (ウ) 日本銀行は国債を買い、市中の資金量を増やそうとする。
 (エ) 日本銀行は金利を上げて、企業への貸し出しを増やす。

(3) 文章中の空欄 **あ** ~ **う** にあてはまる語句の組み合わせとして正しいものを、下の(ア)~(エ)から一つ選び、記号で答えなさい。

- (ア) あ-終身雇用 い-年功序列 う-成果主義
 (イ) あ-終身雇用 い-能力主義 う-成果主義
 (ウ) あ-成果主義 い-年功序列 う-終身雇用
 (エ) あ-成果主義 い-能力主義 う-終身雇用

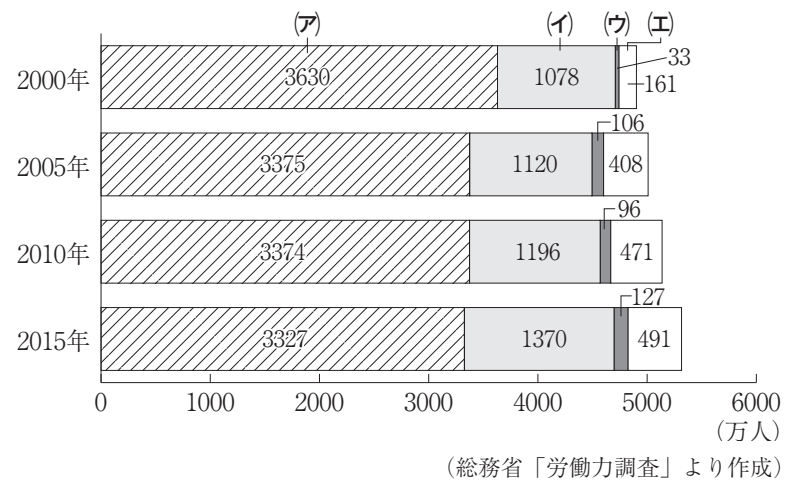
(4) 下線部(c)のきっかけとなったできごとについて述べた文として正しいものを、下の(ア)~(エ)から一つ選び、記号で答えなさい。

- (ア) 京都議定書が締結された。
 (イ) 世界金融危機が発生した。
 (ウ) バブル経済が崩壊した。
 (エ) 変動相場制に移行した。

(5) 下線部(d)について、グローバル化の進展による影響について述べた文として誤っているものを、下の(ア)~(エ)から一つ選び、記号で答えなさい。

- (ア) 産業の空洞化が進行した。
 (イ) 多国籍企業の活動が活発化した。
 (ウ) 国際的な分業が加速した。
 (エ) 安い外国商品を輸入しにくくなった。

(6) 下線部(e)について、下のグラフは、「正社員」、「派遣社員」、「パート・アルバイト」、「契約社員・その他」の4種に分けた、雇用形態別の労働者数の推移を示したものである。このうち、「パート・アルバイト」にあてはまるものを、グラフ中の(ア)~(エ)から一つ選び、記号で答えなさい。



(7) 文章中の空欄 **え** にあてはまる文として最も適切なものを、下の(ア)~(エ)から一つ選び、記号で答えなさい。

- (ア) 外国人労働者の受け入れを拡大する
 (イ) パワーハラスメントを防止する
 (ウ) 消費税の税率を8%から10%に引き上げる
 (エ) すべての公務員の定年を75歳とする

(8) 下線部(f)について、労働三法に含まれるものを、下の(ア)~(エ)から一つ選び、記号で答えなさい。

- (ア) 育児・介護休業法 (イ) 最低賃金法
 (ウ) 男女雇用機会均等法 (エ) 労働基準法