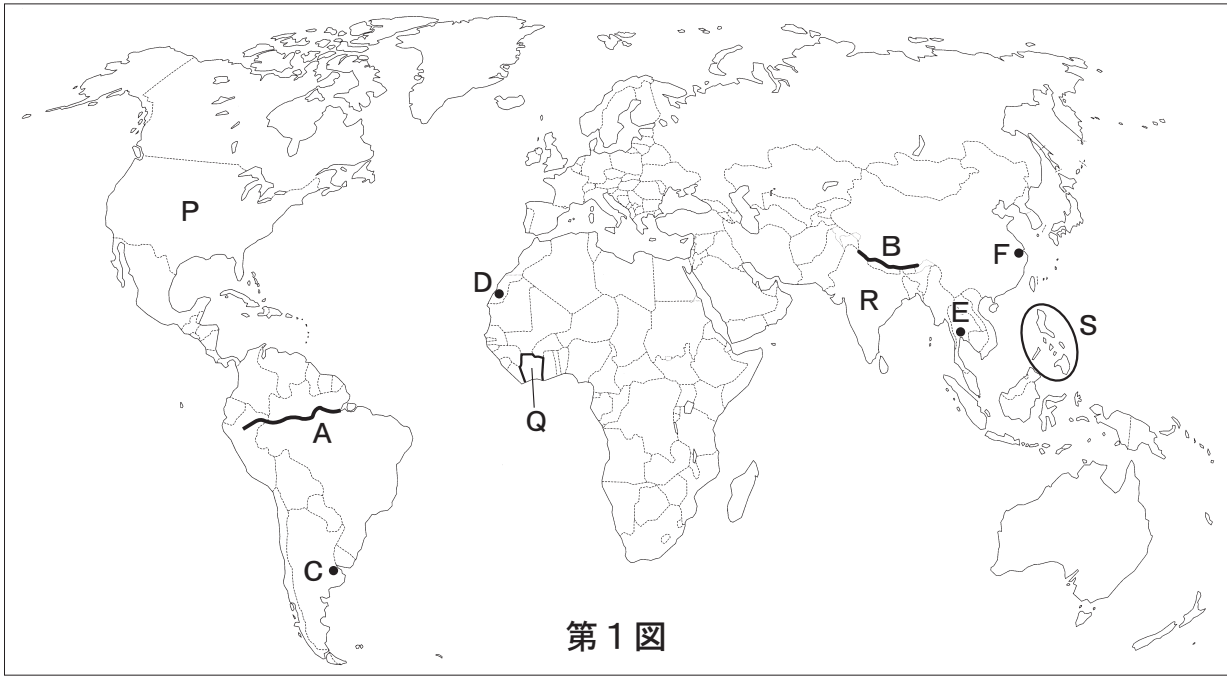




京都成章高等学校  
社

平成31年度 入学試験問題  
会

1. 世界地理に関する下の問(1)~(6)に答えなさい。



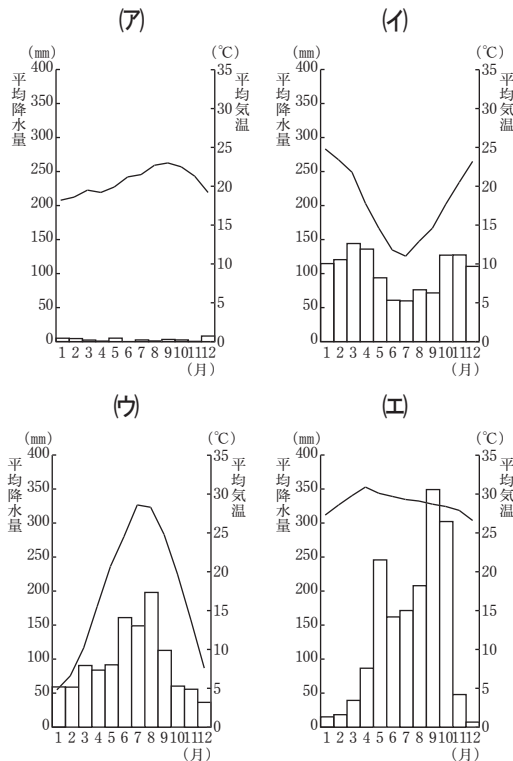
(1) 第1図中のA川の名称を、下の(ア)~(エ)から一つ選び、記号で答えなさい。

- (ア) アマゾン川      (イ) ナイル川  
(ウ) ミシシッピ川      (エ) ドナウ川

(2) 第1図中のB山脈の名称を、下の(ア)~(エ)から一つ選び、記号で答えなさい。

- (ア) アンデス山脈      (イ) アルプス山脈  
(ウ) ヒマラヤ山脈      (エ) ロッキー山脈

(3) 次の4つの図は、第1図中のC~Fのいずれかの都市の月別平均気温と月別平均降水量を示した雨温図である。Dにあてはまるものを、下の(ア)~(エ)から一つ選び、記号で答えなさい。



(4) 次の3つの数値にあてはまる国を、下の(ア)~(エ)から一つ選び、記号で答えなさい。(数値の統計年次はいずれも2016年)

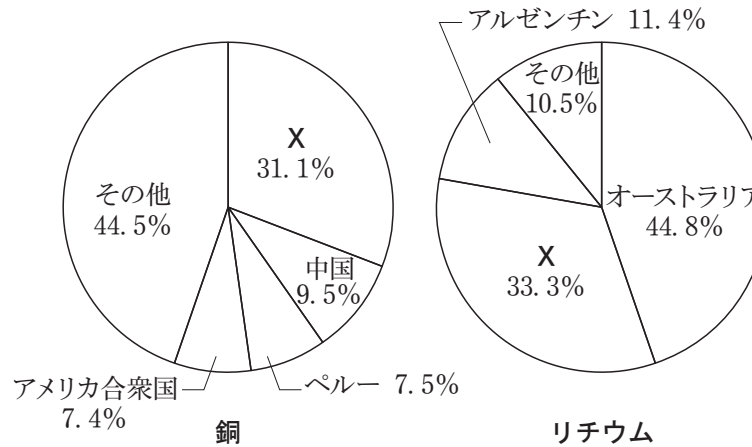
<面積329万km<sup>2</sup>、人口密度369人/km<sup>2</sup>、一人あたりの国民総所得1680ドル>

- (ア) アルゼンチン      (イ) インド  
(ウ) サウジアラビア      (エ) ブラジル

(5) 次の4つの文は、第1図中のP~Sのいずれかの国における農業について述べたものである。Qにあてはまる文を、下の(ア)~(エ)から一つ選び、記号で答えなさい。

- (ア) 米と小麦の生産量はともに世界第2位である。  
(イ) カカオ豆を栽培し、そのほとんどを輸出している。  
(ウ) バナナを大規模に栽培し、日本などに輸出している。  
(エ) フィードロットにおいて肉牛を短期間で肥育している。

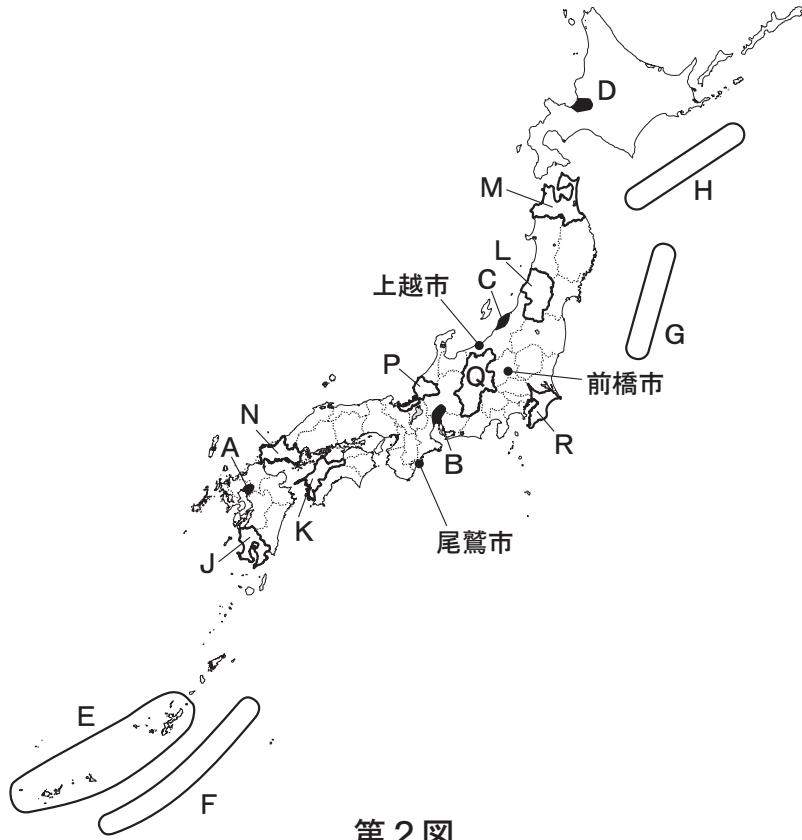
(6) 次の円グラフは、銅とリチウムの世界の総生産量に占める生産割合を示したものである。円グラフ中のXにあてはまる国を、下の(ア)~(エ)から一つ選び、記号で答えなさい。



統計年次は銅が2014年 リチウムが2015年  
「データブック オブ・ザ・ワールド」より作成

- (ア) インド      (イ) メキシコ      (ウ) フランス      (エ) チリ

2. 日本地理に関する下の問(1)~(9)に答えなさい。



第2図

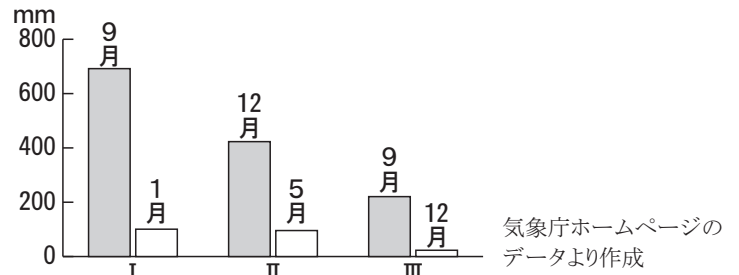
(1) 第2図中に示したA~Dの平野とその平野を流れる河川について述べた文として正しいものを、下の(ア)~(エ)から一つ選び、記号で答えなさい。

- (ア) Aの筑紫平野には北上川が流れている。
- (イ) Bの濃尾平野には木曾川が流れている。
- (ウ) Cの越後平野には最上川が流れている。
- (エ) Dの石狩平野には天竜川が流れている。

(2) 第2図中のE~Hの海域について述べた文として**適当でないもの**を、下の(ア)~(エ)から一つ選び、記号で答えなさい。

- (ア) Eの海岸付近にはサンゴ礁が発達している。
- (イ) Fの海底には海溝が形成されている。
- (ウ) Gの海底には大陸棚が形成されている。
- (エ) Hの海域には寒流が流れている。

(3) 次の図のI~IIIは、第2図中の上越市、前橋市、尾鷲市のいずれかの都市について、最も降水量の多い月と最も降水量の少ない月の降水量を示したものである。図中のI~IIIと都市名の正しい組み合わせを、下の(ア)~(カ)から一つ選び、記号で答えなさい。



	I	II	III
(ア)	上越市	前橋市	尾鷲市
(イ)	上越市	尾鷲市	前橋市
(ウ)	前橋市	上越市	尾鷲市
(エ)	前橋市	尾鷲市	上越市
(オ)	尾鷲市	上越市	前橋市
(カ)	尾鷲市	前橋市	上越市

(4) 日本における災害と防災について述べた文として**適当でないもの**を、下の(ア)~(エ)から一つ選び、記号で答えなさい。

- (ア) 台風の接近により海面が上昇し平野部が浸水する液状化現象が発生している。
- (イ) 集中豪雨による洪水を防止するため、大都市の地下に巨大な調整池が建設されている。
- (ウ) 集中豪雨により大量の雨水と土砂が下流に短時間で流れ込む土石流が発生している。
- (エ) 自治体がハザードマップを発行し、住民に被害発生予想区域や避難経路を知らせている。

(5) 次の4つの文は第2図中のJ~Mのいずれかの県における農牧業について述べたものである。Lにあてはまる文を、下の(ア)~(エ)から一つ選び、記号で答えなさい。ただし文中の都道府県別順位は2015年の数値である。

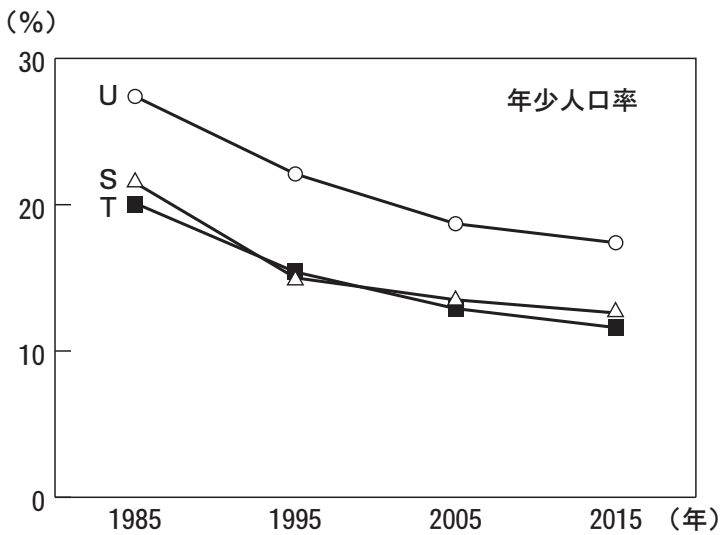
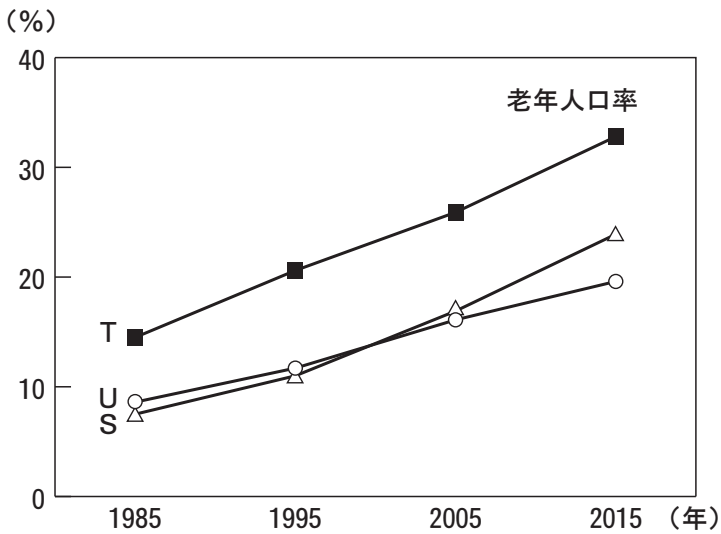
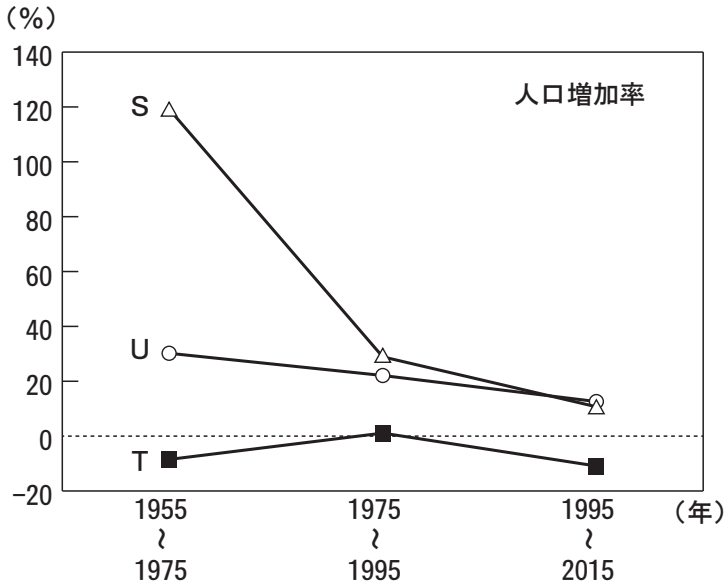
- (ア) サツマイモの生産量と豚の飼育頭数は第1位であり、茶の生産量は第2位である。
- (イ) リンゴ、ゴボウ、ニンニク<sup>かんきつ</sup>の生産量は第1位である。
- (ウ) サクランボと西洋ナシの生産量は第1位である。
- (エ) ミカンやイヨカンなどの柑橘類の栽培がさかんである。

(6) 次の文章は、第2図中のN、P、Q、Rのいずれかの県の産業について述べたものである。この文章にあてはまる県を、下の(ア)~(エ)から一つ選び、記号で答えなさい。

第二次世界大戦前は養蚕業が発展していた。戦後は時計などの精密機械工業、1980年代以降はプリンタや電子部品などの電気機械工業もさかんになった。

- (ア) N      (イ) P      (ウ) Q      (エ) R

(7) 次の3つの図は、沖縄県、高知県、神奈川県いずれかの県について、1955～2015年における20年ごとの人口増加率と、1985年から2015年における10年ごとの老年人口率と年少人口率の推移を示したものである。3つの図中のS～Uにあてはまる県名の正しい組み合わせを、下の(ア)～(カ)から一つ選び、記号で答えなさい。



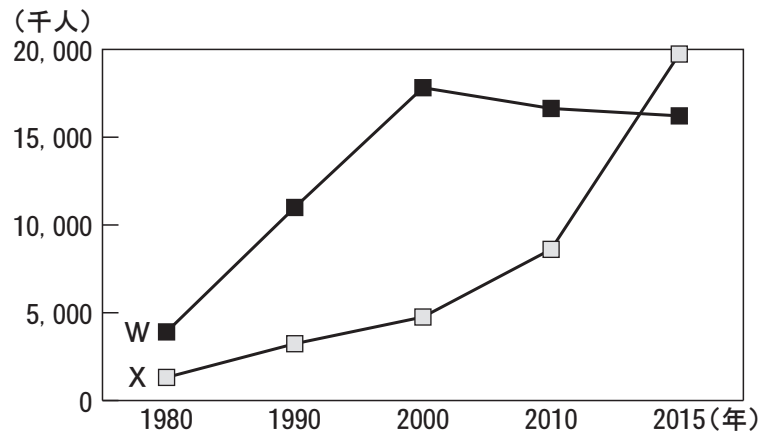
「国勢調査」より作成

	S	T	U
(ア)	沖縄県	高知県	神奈川県
(イ)	沖縄県	神奈川県	高知県
(ウ)	高知県	沖縄県	神奈川県
(エ)	高知県	神奈川県	沖縄県
(オ)	神奈川県	沖縄県	高知県
(カ)	神奈川県	高知県	沖縄県

(8) 日本における地方の活性化の試みについて述べた文として**適当でないもの**を、下の(ア)～(エ)から一つ選び、記号で答えなさい。

- (ア) 地元で作られた農産物を地元で消費することで地域経済を活性化する取り組みを地産地消という。
- (イ) 貴重な自然環境を観察しつつ、生態系を乱さないように観光することをエコツーリズムという。
- (ウ) 木材を焼却した熱をエネルギーにするバイオマス発電が行われている。
- (エ) 観光施設の内部に大規模な駐車場を作り、観光客の交通の利便性を高めることをパークアンドライドという。

(9) 次のグラフのWとXは、訪日外国人旅行者数と日本人の海外旅行人数のいずれかの推移を示したものであり、下の表のYとZは、2015年における国・地域別の訪日外国人旅行者数と日本人の海外旅行先の上位5カ国・地域のいずれかを示したものである。訪日外国人旅行者数の推移と国・地域別の訪日外国人旅行者数上位5カ国・地域の正しい組み合わせを、下の(ア)～(エ)から一つ選び、記号で答えなさい。



	Y	Z
第1位	アメリカ合衆国	中国
第2位	中国	韓国
第3位	韓国	台湾
第4位	台湾	ホンコン(香港)
第5位	タイ	アメリカ合衆国

アメリカ合衆国には、ハワイやグアムなどを含む。

「地理統計」より作成

	(ア)	(イ)	(ウ)	(エ)
訪日外国人旅行者数の推移	W	W	X	X
国・地域別の訪日外国人旅行者数上位5カ国・地域	Y	Z	Y	Z

## 3. 次のA～Fの各文章を読み、下の問(1)～(10)に答えなさい。

A かざりの少ない実用的な土器が使用されたこの時代は、中国大陸や朝鮮半島から稲作や青銅器・鉄器が伝えられた。この時代、日本の奴国の王が中国に使節を派遣し、皇帝から「漢委奴国王」の称号を刻んだ印を与えられた。

B  は、中国との貿易をさかんに行った。この貿易は、派遣する貿易船に、倭寇の取り締まりのため中国が発行する勘合を持たせたため、勘合貿易と呼ばれる。また、 の時代の文化を(a)北山文化と呼んでいる。

C 桓武天皇が中国に派遣した最澄は、仏教を学び、帰国後に比叡山に延暦寺を建てて 宗を開いた。また、(b)桓武天皇は、政治の立て直しをはかるために、遷都を行い、さまざまな改革を実施した。

D 徳川家光は、キリスト教の禁教を徹底し、貿易の統制も強めるため、ヨーロッパ船の来航を に限定した。家光の時代には参勤交代の制度を定めて大名に対する統制も強めるなど、幕藩体制が整えられた。

E 平清盛は、源義朝らを平治の乱で破り、さらに後白河上皇の院政を助け、武士として初めて太政大臣に就任して政権を握った。また、(c)清盛は中国との貿易を進めるために、瀬戸内海の航路を整備した。

F 聖徳太子は中国の に小野妹子らを派遣し、対等の立場で国交を結ぼうとした。(d)聖徳太子は蘇我馬子らと協力し、天皇中心の国家体制を整えようとした。また、彼らは大陸から伝えられた仏教を信仰し、さかんに寺院を建立した。

(1) Aの時代を代表する遺跡として正しいものを、下の(ア)～(エ)から一つ選び、記号で答えなさい。

- (ア) 岩宿遺跡 (イ) 野尻湖遺跡  
(ウ) 草戸千軒町遺跡 (エ) 吉野ヶ里遺跡

(2) 文章中の空欄 にあてはまる人物名として正しいものを、下の(ア)～(エ)から一つ選び、記号で答えなさい。

- (ア) 足利義政 (イ) 足利義満  
(ウ) 足利義昭 (エ) 足利尊氏

(3) 下線部(a)について述べた文として正しいものを、下の(ア)～(エ)から一つ選び、記号で答えなさい。

- (ア) 床の間をもつ寝殿造が発達した。  
(イ) 兼好法師が随筆集『徒然草』を著した。  
(ウ) 観阿弥と世阿弥が能楽を大成した。  
(エ) 本居宣長が『古事記伝』を著し、国学を大成した。

(4) 文章中の空欄 にあてはまる宗派名として正しいものを、下の(ア)～(エ)から一つ選び、記号で答えなさい。

- (ア) 天台 (イ) 曹洞  
(ウ) 浄土 (エ) 真言

(5) 下線部(b)について、桓武天皇による政治について述べた文として誤っているものを、下の(ア)～(エ)から一つ選び、記号で答えなさい。

- (ア) 平城京から長岡京に遷都した。  
(イ) 朝廷の支配に抵抗する蝦夷に源義家を派遣して、北方に領域を拡大した。  
(ウ) 税や労役を軽くして、一般の人々の生活に配慮した。  
(エ) 国司に対する監督を強め、不正を厳しく取り締まった。

(6) 文章中の空欄 にあてはまる地名として正しいものを、下の(ア)～(エ)から一つ選び、記号で答えなさい。

- (ア) 鹿児島 (イ) 博多  
(ウ) 長崎 (エ) 堺

(7) 下線部(c)について、平清盛が中国との貿易のために整えた港として正しいものを、下の(ア)～(エ)から一つ選び、記号で答えなさい。

- (ア) 箱館 (イ) 横浜  
(ウ) 下田 (エ) 兵庫

(8) 文章中の空欄 にあてはまる中国の王朝名として正しいものを、下の(ア)～(エ)から一つ選び、記号で答えなさい。

- (ア) 隋 (イ) 秦  
(ウ) 元 (エ) 唐

(9) 下線部(d)について、聖徳太子について述べた文として正しいものを、下の(ア)～(エ)から一つ選び、記号で答えなさい。

- (ア) 天皇の権威を示すために、日本最大の古墳である大仙古墳をつくった。  
(イ) 十七条の憲法を制定し、役人は天皇の命令に従うべきことなどを説いた。  
(ウ) 天皇と仏教の結びつきを明らかにするために、東大寺を建立した。  
(エ) 国家の中心となる天皇の由来を示すために『日本書紀』をつくった。

(10) A～Fの各文章を古いものから順に並べるとき、4番目にくる文章を、A～Fの記号で答えなさい。



## 4. 次の文章を読み、下の問(1)～(7)に答えなさい。

明治新政府は、1871年に廃藩置県を断行して、中央集権的な体制をつくった。さらに新政府が士族の特権を廃止すると、(a)不満を持った士族は反乱を起こしたり、言論による自由民権運動を開始した。

(b)立憲制国家の樹立をめざす自由民権運動には民衆も参加し、藩閥政府への大規模な反対運動に発展した。政府が1881年に国会開設の勅諭を發布すると、板垣退助を党首とする自由党などの政党が結成された。1885年には内閣制度が発足し、が初代内閣総理大臣に就任した。1889年には大日本帝国憲法が制定され、翌年には議会も開かれ、日本は立憲制国家となった。しかし、選挙権は厳しく制限され、議会内でも藩閥勢力と自由民権運動の流れをくむ民党の対立は、(c)日清戦争のころまで続いた。

1912年に陸軍により立憲政友会の西園寺公望内閣が倒されると、第一次護憲運動が発生し、翌年、藩閥政府は打倒された。

1914年に(d)第一次世界大戦が始まると、日本はこれに参戦し、さらにロシアで成立した革命政府を倒すためシベリア出兵を行った。この際発生した米騒動を、軍によって鎮圧した責任をとって内閣が退陣すると、が、閣僚のほとんどを立憲政友会の党员で構成する本格的な政党内閣を組織した。

1924年に再び政党を無視した内閣が成立すると、第二次護憲運動が起こり、加藤高明内閣が成立し、翌年には普通選挙法が成立した。これ以後、立憲政友会と憲政会（のちの立憲民政党）が、交互に内閣を組織し、「憲政の常道」とよばれた。

1929年にアメリカから始まった世界恐慌は日本にも深刻な影響をもたらした。一方中国では、(e)国民党による統一が1928年までにほぼ完了し、民族運動が高まっていた。このため政府は、国民の負担を減らそうと軍備の縮小を進めるとともに、中国との関係改善をはかろうとした。しかし軍の一部や国家主義者は、大陸での日本の勢力圏を拡大して苦境を脱しようとし、政府を激しく批判した。軍部は、1931年に満州事変を起こして中国東北地方を占領し、1932年には首相を暗殺する事件をおこした。この結果、政党内閣の時代は終わり、政治への軍部の発言力は強まった。

(f)1937年から始まった日中戦争が長期化すると、全体主義的な体制を整えるために、1940年にはほとんどの政党や政治団体は解散して会にまとめられた。しかし、こうした体制は第二次世界大戦での日本の敗北を機に解体され、民主化が行われた。

(1) 文章中の空欄～にあてはまる語句を答えなさい。

(2) 下線部(a)について、士族反乱を起こした人物を、下の(ア)～(エ)から一つ選び、記号で答えなさい。

- (ア) 岩倉具視 (イ) 西郷隆盛  
(ウ) 大久保利通 (エ) 高杉晋作

(3) 下線部(b)について、自由民権運動に関わる以下の①～③のできごとを、古いものから正しく並べたものを、下の(ア)～(カ)から一つ選び、記号で答えなさい。

- ① 国会期成同盟が結成された。  
② 秩父事件が発生した。  
③ 民撰議院設立建白書が政府に提出された。

(ア) ① → ② → ③

(イ) ① → ③ → ②

(ウ) ② → ① → ③

(エ) ② → ③ → ①

(オ) ③ → ① → ②

(カ) ③ → ② → ①

(4) 下線部(c)が勃発した年に、朝鮮王朝のもと発生したできごとを、下の(ア)～(エ)から一つ選び、記号で答えなさい。

- (ア) 江華島事件 (イ) 甲午農民戦争  
(ウ) 義和団事件 (エ) 太平天国の乱

(5) 下線部(d)について述べた文として誤っているものを、下の(ア)～(エ)から一つ選び、記号で答えなさい。

- (ア) この戦争の原因の1つには、「ヨーロッパの火薬庫」とよばれていたバルカン半島での民族対立があった。  
(イ) この戦争は、ドイツ、オーストリア中心の同盟国と、イギリス、フランスなどの連合国との間に発生した。  
(ウ) この戦争では、毒ガス、潜水艦などの新兵器が使用され、被害をより大きくした。  
(エ) 日本は、中国政府に二十一か条の要求を認めさせ、その規定にもとづいて南満州鉄道株式会社を設立した。

(6) 下線部(e)について、中国の統一を進めた国民党の指導者として正しいものを、下の(ア)～(エ)から一つ選び、記号で答えなさい。

- (ア) 蔣介石 (イ) 袁世凱  
(ウ) 李舜臣 (エ) 毛沢東

(7) 下線部(f)について、1937年の日中戦争の始まりから1941年の太平洋戦争の始まりまでの期間に発生したできごとについて述べた文として正しいものを、下の(ア)～(エ)から一つ選び、記号で答えなさい。

- (ア) 国際連盟から脱退した。  
(イ) 日英同盟が廃止された。  
(ウ) 日独伊三国同盟を結んだ。  
(エ) 治安維持法が制定された。

## 5. 次の文章を読み、下の問(1)~(8)に答えなさい。

日本国憲法は、大日本帝国憲法とは異なる三つの基本原理をもっている。まず、国民主権である。議会制民主主義のしくみが採用され、(a)選挙で選ばれた国民の代表が、(b)国会で政治をおこなう。天皇は日本国と日本国民統合の [ 1 ] として、内閣の助言と承認にもとづいて [ 2 ] のみをおこなっている。

次に、(c)基本的人権の尊重があげられる。日本国憲法は国民の人権を侵すことのできない永久の権利と宣言して、法の下での平等や自由権・(d)社会権などを確保するための権利を、幅広く保障している。

そして、(e)平和主義である。日本国憲法は前文で恒久平和の追求を宣言し、第9条の第1項では「国権の発動たる戦争と、武力による威嚇又は武力の行使は、(f)国際紛争を解決する手段としては、永久にこれを放棄する」と述べ、第2項では「前項の目的を達するため、陸海空軍その他の戦力は、これを保持しない。国の [ 3 ] は、これを認めない」と定めている。

日本国憲法は国の最高法規であり、憲法に反する法律や命令は効力を持たない。そのため、(g)憲法改正には慎重な手続きが定められている。

(1) 文章中の空欄 [ 1 ] ~ [ 3 ] にあてはまる語句を答えなさい。

(2) 下線部(a)について、選挙制度の特徴を説明した文として誤っているものを、下の(ア)~(エ)から一つ選び、記号で答えなさい。

- (ア) 小選挙区制は少数意見が反映されやすい。
- (イ) 比例代表制は議会で多数派が作られにくい。
- (ウ) 小選挙区制は政権が安定しやすい。
- (エ) 比例代表制は死票が少ない傾向がある。

(3) 下線部(b)について、国会の役割を説明した文として誤っているものを、下の(ア)~(エ)から一つ選び、記号で答えなさい。

- (ア) 内閣総理大臣の指名を行う。
- (イ) 条約を承認する。
- (ウ) 予算案を作成する。
- (エ) 法律を制定する。

(4) 下線部(c)について、1789年に発表された、人は生まれながらに人権をもっていると宣言されている文書を、下の(ア)~(エ)から一つ選び、記号で答えなさい。

- (ア) フランス人権宣言
- (イ) 国際連合憲章
- (ウ) マグナ=カルタ
- (エ) 世界人権宣言

(5) 下線部(d)の社会権として正しいものを、下の(ア)~(エ)から一つ選び、記号で答えなさい。

- (ア) 請求権      (イ) 勤労の権利
- (ウ) 参政権      (エ) 自己決定権

(6) 下線部(e)について、日本の安全保障政策の現状を説明した文として誤っているものを、下の(ア)~(エ)から一つ選び、記号で答えなさい。

- (ア) 現在の日本では、集団的自衛権の行使が限定的に認められている。
- (イ) 自衛隊は国際貢献として、国連の平和維持活動に参加している。
- (ウ) 日本は核兵器を「持たず、作らず、持ちこませず」という核三原則をかかげている。
- (エ) 日本の領域内に他国の軍の基地は設置されていない。

(7) 下線部(f)について、1989年の冷戦終結の宣言前から現在まで続いている国際紛争と、冷戦終結の宣言後に新たに起こった国際紛争の組み合わせとして最も適当なものを、下の(ア)~(エ)から一つ選び、記号で答えなさい。

	冷戦終結の宣言前から現在まで続いている国際紛争	冷戦終結の宣言後に新たに起こった国際紛争
(ア)	ユーゴスラビア紛争	ベトナム戦争
(イ)	イラク戦争	ユーゴスラビア紛争
(ウ)	ベトナム戦争	パレスチナ紛争
(エ)	パレスチナ紛争	イラク戦争

(8) 下線部(g)に関する以下の説明文の下線部(ア)~(エ)のうち、誤っているものを一つ選び、記号で答えなさい。

日本国憲法の改正には、まず衆議院と参議院それぞれの(ア)出席議員の(イ)3分の2以上の賛成で憲法改正を(ウ)発議する。次に国民投票が行われ、(エ)過半数の賛成で憲法が改正される。

## 6. 次の文章を読み、下の問(1)~(8)に答えなさい。

(a) グローバル化が進み、国境をこえた活動をおこなう多国籍企業が増え、(b) 貿易は活発になっている。しかし世界の富は一部にかたよっており、(c) 先進国は北半球に、発展途上国の多くは南半球に集中している。このような経済格差、およびそれともなうさまざまな問題を  問題という。

発展途上国は、かつては植民地として特定の商品の生産地とされ、独立後もその生産物を輸出する経済から抜け出せず、不安定な経済状況の国が多かった。(d) 経済成長をとげる国もあったが、発展途上国の中でも(e) 資源のとばしい国などでは、紛争や内戦の影響などをうけることもあり、貧困が深刻な問題となっている。このような問題に対処するため、まず1964年に国連貿易開発会議が設立され、貿易や援助の目標が定められ、成果もあがってきた。さらに1974年の(f) 国際連合の特別総会でも、発展途上国の利益を重視した宣言が採択された。さらに先進国が発展途上国に資金や技術提供を行う経済協力である  が行われている。また、同じ課題をかかえている国どうしがそれぞれの地域でまとまりを作り、協調や協力を強めようとする動きが高まり、(g) 発展途上国が比較的多い地域でも積極的な協力や経済統合が進められている。

(1) 文章中の空欄  ・  にあてはまる語句を答えなさい。

(2) 下線部(a)について、自由な貿易を守る機関として1995年に設置された国際機関の略称を、下の(ア)~(エ)から一つ選び、記号で答えなさい。

- (ア) ILO            (イ) WTO  
(ウ) IBRD        (エ) WHO

(3) 下線部(b)について、貿易のためには通貨の交換が必要となるが、その過程で発生する円高について説明した文として誤っているものを、下の(ア)~(エ)から一つ選び、記号で答えなさい。

- (ア) 日本からの輸出が不利になる。  
(イ) 国内の企業が買収されやすくなる。  
(ウ) 国内の産業の空洞化につながりやすくなる。  
(エ) 海外の土地や株式が安く買えるようになる。

(4) 下線部(c)について、1997年、先進国への温室効果ガスの削減を義務づける議定書を採択した会議が行われた都市を、下の(ア)~(エ)から一つ選び、記号で答えなさい。

- (ア) スtockホルム      (イ) リオデジャネイロ  
(ウ) 京都                (エ) モントリオール

(5) 下線部(d)のうち、近年BRICSとよばれる国々が経済成長しているが、BRICSに含まれる国を、下の(ア)~(エ)から一つ選び、記号で答えなさい。

- (ア) エチオピア        (イ) カナダ  
(ウ) スウェーデン      (エ) 中国

(6) 下線部(e)について、日本の資源・エネルギー問題についての説明として最も適当なものを、下の(ア)~(エ)から一つ選び、記号で答えなさい。

- (ア) 期待されているメタンハイドレートは日本近海ではまだ発見されていない。  
(イ) 専門家の努力の結果、原子力発電の問題点はすべて解決している。  
(ウ) エネルギー資源の8割以上を輸入に頼っている。  
(エ) 再生可能エネルギーによる発電量は、火力による発電量を上回っている。

(7) 下線部(f)について説明した文として最も適当なものを、下の(ア)~(エ)から一つ選び、記号で答えなさい。

- (ア) 総会で決議する際に、一部の中心的役割を果たす国には2票が与えられている。  
(イ) 安全保障理事会の常任理事国である五つの国は拒否権を持っている。  
(ウ) 本部はスイスのジュネーブにあり、事務総長のもと多くの国際公務員が働いている。  
(エ) 国際紛争を解決するための手段として、軍事的措置をとることとはできない。

(8) 下線部(g)について、東南アジアの経済協力組織の略称として最も適当なものを、下の(ア)~(エ)から一つ選び、記号で答えなさい。

- (ア) ASEAN        (イ) NATO  
(ウ) IMF            (エ) EU