

京都成章高等学校
社

平成22年度 入学試験問題
会

1. 世界地理に関する下の問(1)~(8)に答えなさい。



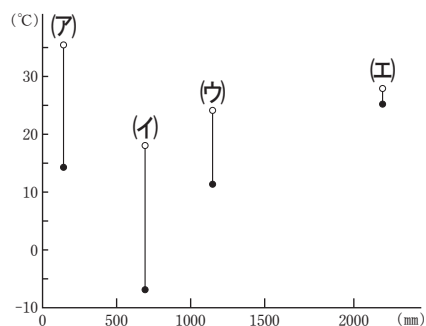
(1) 地図中のA高原の名称を、下の(ア)~(エ)から選び、記号で答えなさい。

- (ア) デカン高原
- (イ) チベット高原
- (ウ) ラブラドル高原
- (エ) エチオピア高原

(2) 地図中のB~Eの河川の名称の組み合わせとして誤っているものを、下の(ア)~(エ)から選び、記号で答えなさい。

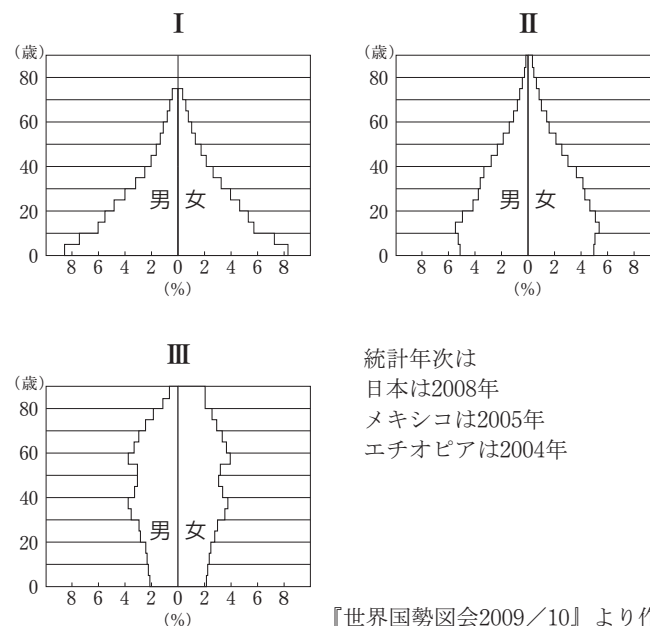
- (ア) B-ラプラタ川 (イ) C-ナイル川
- (ウ) D-インダス川 (エ) E-ガンジス川

(3) 次の図は、地図中の①~④の都市における年間降水量、最も暖かい月の平均気温、最も寒い月の平均気温を示したものである。都市①にあてはまるものを、図中の(ア)~(エ)から選び、記号で答えなさい。



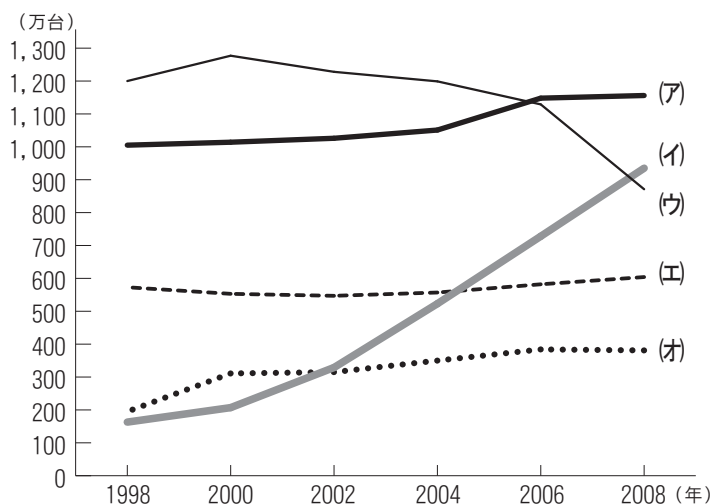
○：最も暖かい月の平均気温
●：最も寒い月の平均気温
縦軸に気温(°C)、横軸に年間降水量(mm)を示した。
『理科年表 平成21年』より作成

(4) 次のI~IIIの図は、日本、メキシコ、エチオピアの人口ピラミッド(男女別の年齢階層別人口構成)を示したものである。I~IIIにあてはまる国名の正しい組み合わせを、下の(ア)~(カ)から選び、記号で答えなさい。



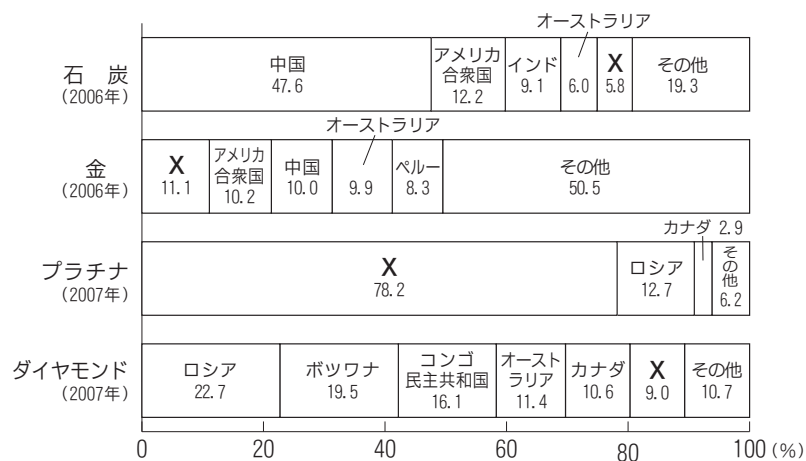
	I	II	III
(ア)	日本	メキシコ	エチオピア
(イ)	日本	エチオピア	メキシコ
(ウ)	メキシコ	日本	エチオピア
(エ)	メキシコ	エチオピア	日本
(オ)	エチオピア	日本	メキシコ
(カ)	エチオピア	メキシコ	日本

(5) 次の図は、2008年における自動車生産台数の上位5カ国である日本、韓国、中国、ドイツ、アメリカ合衆国の生産台数の推移を示したものである。中国を示したものを、図中の(ア)~(オ)から選び、記号で答えなさい。



『世界国勢図会』各年版より作成

(6) 次の図は、4つの地下資源の生産量上位国の生産割合を示したものである。図中のXにあてはまる国を、下の(ア)~(エ)から選び、記号で答えなさい。



『世界国勢図会2009/10年版』より作成

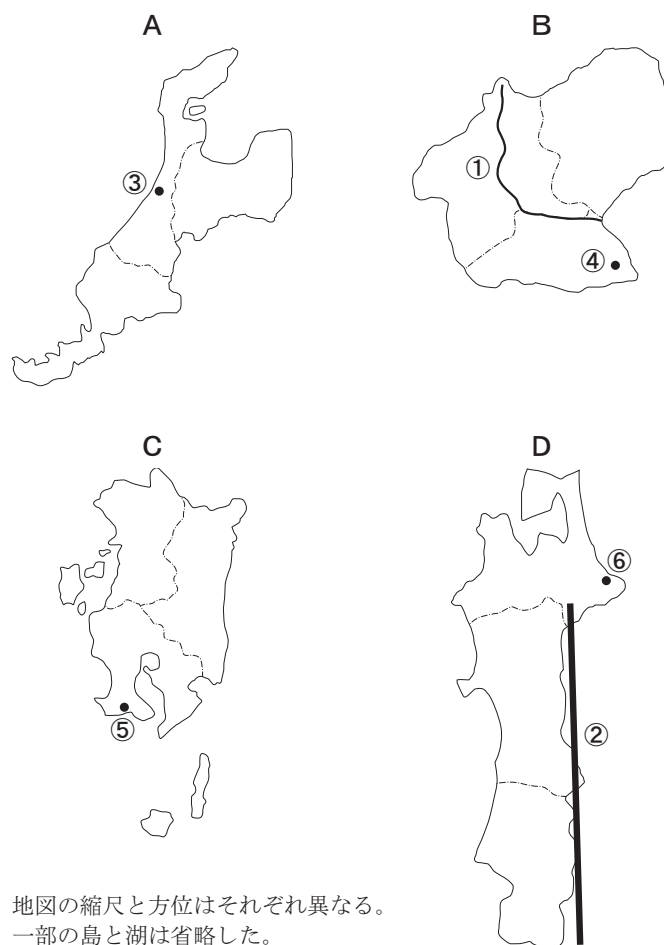
- (ア) メキシコ
- (イ) 南アフリカ共和国
- (ウ) アルゼンチン
- (エ) マレーシア

(7) 次の(ア)~(エ)は地図中の⑤~⑧でみられる環境問題について述べた文である。地図中の⑥でみられる環境問題を、下の(ア)~(エ)から選び、記号で答えなさい。

- (ア) 地球温暖化にともない山岳地域にある氷河の融解が急速に進んでいる。
- (イ) 発電出力が世界最大となるサンシャダムが建設中だが、完成後、ダム下流域の生態系の変化が心配されている。
- (ウ) アラル海に流れ込む2つの河川から大量に取水して綿花畑に灌漑したため、2つの河川が途中で干上がり、湖面が大幅に縮小している。
- (エ) 養殖場の造成や燃料用の木材確保のためマングローブ林が伐採され、住民の生活様式が大きく変化した。

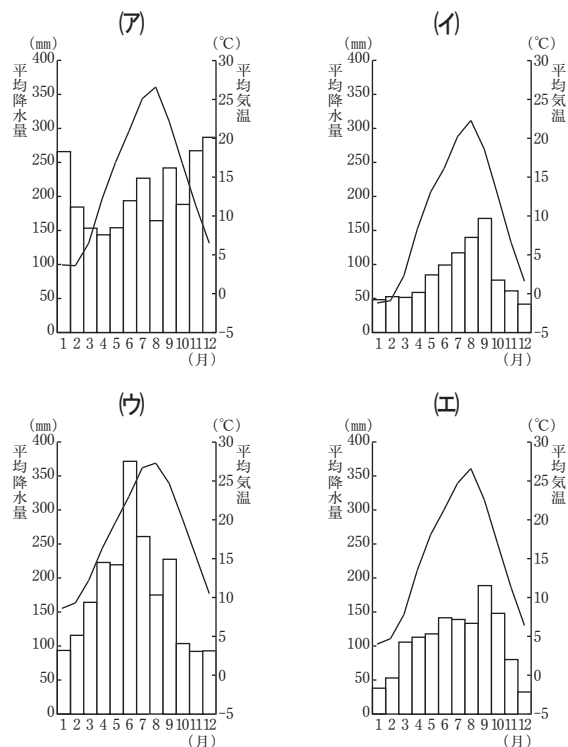
(8) 地図中に示したロサンゼルスを現地時間の2010年2月6日土曜日の午後11時に出発した飛行機に乗り、関西国際空港に日本時間の2月8日月曜日の午前4時に到着した。ロサンゼルスと関西国際空港間の飛行時間を答えなさい。ただしロサンゼルスを含むアメリカ合衆国西部地区は、西経120度の経線を標準時子午線と定めている。

2. 次の4つの地図は、日本における隣接する3つの県を合わせた地域を示したものである。A~Dに関する、下の問(1)~(8)に答えなさい。



地図の縮尺と方位はそれぞれ異なる。一部の島と湖は省略した。

- (1) 地図中の①の河川の名を、下の(ア)~(エ)から選び、記号で答えなさい。
 (ア) 北上川 (イ) 石狩川
 (ウ) 利根川 (エ) 紀ノ川
- (2) 地図中の②の山脈の名を、下の(ア)~(エ)から選び、記号で答えなさい。
 (ア) 奥羽山脈 (イ) 日高山脈
 (ウ) 木曾山脈 (エ) 越後山脈
- (3) 次の(ア)~(エ)は、地図中の③~⑥の都市の雨温図である。都市④の雨温図を、下の(ア)~(エ)から選び、記号で答えなさい。



気象庁ホームページのデータから作成

(4) 次の表は、人口増加率、老年人口率、第2次産業就業者割合について、A～Dにある3県の平均値と日本全国の数値を示したものである。Aの数値を表中の(ア)～(エ)から選び、記号で答えなさい。

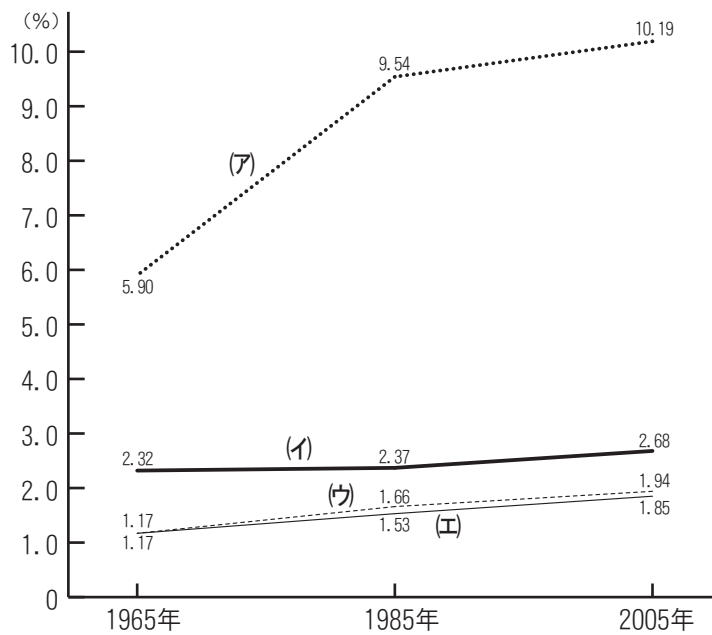
単位：％

	人口増加率	老年人口率	第2次産業就業者割合
(ア)	-2.37	25.0	22.3
(イ)	-1.25	23.5	33.0
(ウ)	1.39	20.2	31.3
(エ)	-4.68	26.1	26.7
日本全国	0.67	21.5	26.0

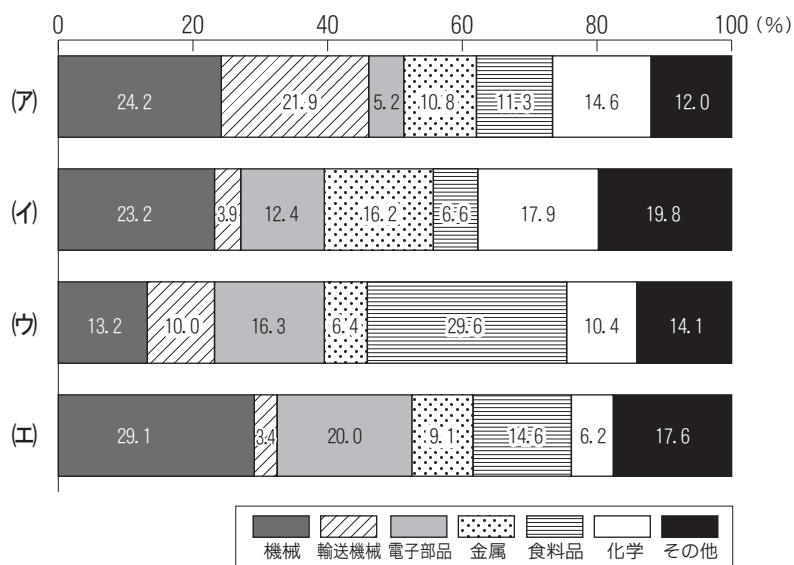
統計年次は、人口増加率が2000年～2007年、老年人口率と第2次産業就業者割合が2007年。

『データでみる県勢 2009年版』より作成

(5) 次の2つの図は、A～Dについて、工業出荷額（製造品出荷額等）の全国に占める割合の変化と、業種別工業出荷額の割合を示したものである。Bにあてはまるものを、図中の(ア)～(エ)から選び、記号で答えなさい。ただし、2つの図中の(ア)～(エ)はそれぞれ同じ地域の数値を示している。



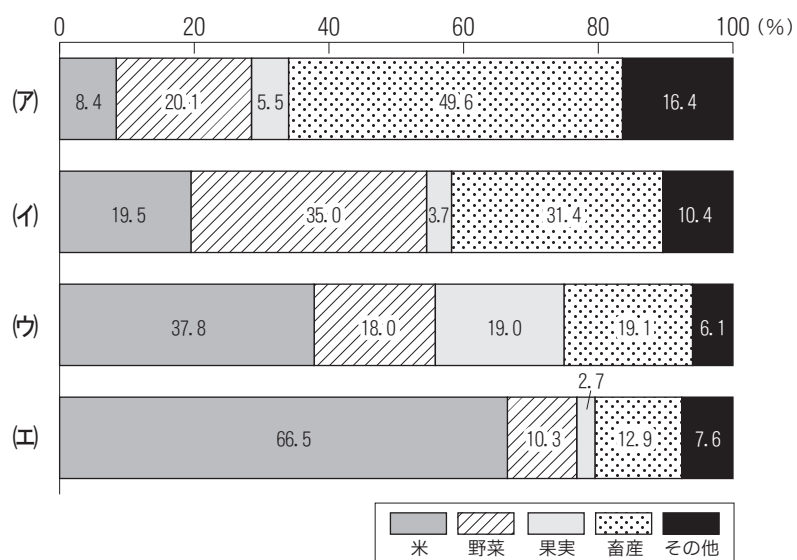
工業出荷額の全国に占める割合の変化



業種別工業出荷額の割合

統計年次は2005年、経済産業省ホームページのデータより作成

(6) 次の4つの図は、A～Dにおける農業産出額の部門別割合を示したものである。Cにあてはまるものを、下の(ア)～(エ)から選び、記号で答えなさい。



統計年次は2006年 『データでみる県勢 2009年版』より作成

(7) 次の(ア)～(エ)は、A～Dにある世界遺産についての説明である。

Aにある世界遺産を、下の(ア)～(エ)から選び、記号で答えなさい。

- (ア) 東照宮などの社寺がある日光
- (イ) ブナの原生林がみられる白神山
- (ウ) 合掌造の集落がみられる五箇山
- (エ) 縄文杉がみられる屋久島

(8) 東京便・大阪便・名古屋便のいずれかの飛行機が運航する空港が存在しない地域をA～Dから選び、記号で答えなさい。

3. 次の文章を読み、下の問(1)~(7)に答えなさい。

A 平氏を討った^(a)源頼朝は、朝廷から国ごとに守護、荘園と公領には **1** を置くことを認めさせ、御家人をこの役に任命した。このため、**1** が置かれた荘園の農民は、荘園領主に加えて **1** の支配も受けることになった。

B ^(b)豊臣秀吉は、**2** を実施して、全国各地に役人を派遣して田畑の面積や収穫高を調べて村ごとに石高を定め、台帳を作成した。また、刀狩を実施して兵農分離を進めた。

C 天皇の後見役として **3** 政治を行う^(c)藤原氏の勢力が増して、朝廷の高官のほとんどを独占した。このため、各地の領主は領地を守る目的で、藤原氏などの有力者に私有地である荘園を寄進して荘官に任命された。

D ^(d)大化の改新後、政府は中央に権力を集中させるために律令国家づくりを進めた。政府は、戸籍に登録された男女に農地を割り当て、死後は返還させる **4** を行い、税や労役を負担させた。

E 戦乱が続く中、農民は村を自衛するために地侍らを中心に **5** とよばれる自治組織をつくった。**5** は寄合を開いて村の掟を定め、違反者を厳しく罰することもあった。^(e)これらの農民は広い地域にわたって結びつきを強め、一揆をおこすこともあった。

(1) 各文章中の空欄 **1** ~ **5** にあてはまる語句を答えなさい。なお、**2** は4字で答えなさい。

(2) 下線部(a)について述べた文として正しいものを、下の(ア)~(エ)から選び、記号で答えなさい。

- (ア) 奥州藤原氏を滅ぼして、東北地方を支配した。
- (イ) 後鳥羽上皇を破り、六波羅探題を置いた。
- (ウ) 武士社会の慣習にもとづいて、武家諸法度を制定した。
- (エ) 平将門の反乱を鎮圧し、関東を平定した。

(3) 下線部(b)について述べた文として誤っているものを、下の(ア)~(エ)から選び、記号で答えなさい。

- (ア) 織田信長に謀反をおこした明智光秀を山崎の戦いで倒した。
- (イ) 2回にわたって朝鮮に遠征軍を派遣した。
- (ウ) キリスト教の宣教師を追放し、鎖国体制を完成させた。
- (エ) 壮大な大阪城を築いて拠点とした。

(4) 下線部(c)について、藤原氏が全盛期を迎えたころの文化について述べた文として正しいものを、下の(ア)~(エ)から選び、記号で答えなさい。

- (ア) 本居宣長が『古事記伝』を著した。
- (イ) 大阪に四天王寺、奈良に法隆寺など大きな寺院が造られた。
- (ウ) 日蓮によって開かれた法華宗は、武士の間に広まった。
- (エ) 清少納言が『枕草子』を著した。

(5) 下線部(d)について、大化の改新を行った皇子は、のちに何天皇となったか。正しいものを、下の(ア)~(エ)から選び、記号で答えなさい。

- (ア) 天武天皇
- (イ) 天智天皇
- (ウ) 桓武天皇
- (エ) 聖武天皇

(6) 下線部(e)について、ある国では、他国からきていた守護大名の軍勢を追い出し8年間にわたって自治が行われた。この一揆がおきたのはどこか。下の(ア)~(エ)から選び、記号で答えなさい。

- (ア) 山城
- (イ) 近江
- (ウ) 加賀
- (エ) 越後

(7) A~Eの各文章を時代の古いものから順に並べるとき、2番目と4番目にくるものを、それぞれ答えなさい。

4. 次の文章を読み、下の問(1)~(8)に答えなさい。

(a)1853年、アメリカの使節 **1** により開国を要求された日本は翌年、**2** 条約を結んで、(b)開国し、さらに1858年には大老 **3** が朝廷の許可を得ないまま、(c)日本に不利な条約を新たに結んだ。このため尊王攘夷運動が活発化して1867年に江戸幕府は倒れた。新しく成立した明治政府は欧米諸国に対抗するために、(d)富国強兵・殖産興業政策を進めるとともに、法制度を整備して不平等条約の改正につとめた。その結果1894年、日清戦争が始まる直前にイギリスとの条約改正に成功し、**あ** された。この戦争で勝利した日本は翌年、**4** 条約を結んだ。しかし、この条約に対してロシアを中心とする三国干渉が行われ、日本は **5** を清に返還した。(e)これ以降日本はロシアとの対立を深め、1904年に日露戦争が始まった。この戦争で勝利した日本は、(f)講和条約で、ロシアに韓国に対する優越を認めさせ、1910年に韓国を併合した。その翌年に **い** され、ようやく不平等条約は解消された。

- (1) 文章中の空欄 **1** ~ **5** にあてはまる語句を答えなさい。
- (2) 下線部(a)の年に、世界でみられた出来事として正しいものを、下の(ア)~(エ)から選び、記号で答えなさい。
- (ア) ガンディーが指導したイギリスへの非暴力・不服従運動
 (イ) 清朝に対する太平天国の乱
 (ウ) イギリスで発生した名誉革命
 (エ) アメリカのイギリスからの独立戦争
- (3) 下線部(b)について、このとき日本が開港した港の正しい組み合わせを、下の(ア)~(エ)から選び、記号で答えなさい。
- (ア) 浦賀・下田 (イ) 浦賀・長崎
 (ウ) 長崎・函館 (エ) 下田・函館
- (4) 下線部(c)について、この条約の締結後、日本は外国と本格的な貿易を開始した。このことについて述べた文として誤っているものを、下の(ア)~(エ)から選び、記号で答えなさい。
- (ア) 主な貿易港は横浜で、最大の貿易相手国はアメリカだった。
 (イ) 外国からは主に毛織物・綿織物・武器などが輸入された。
 (ウ) 日本からは主に生糸・茶などが輸出された。
 (エ) 外国貿易の開始で金が大量に流出し、物価が上昇した。

- (5) 下線部(d)について、1870年代にとられた富国強兵・殖産興業政策について述べた文として正しいものを、下の(ア)~(エ)から選び、記号で答えなさい。
- (ア) 円を単位とした新しい貨幣制度を定めた。
 (イ) 福岡県に官営の八幡製鉄所を設立した。
 (ウ) 徴兵令を發布し、すべての成年男性を兵士として徴集した。
 (エ) 地租改正を実施し、課税の基準を収穫高に改めた。
- (6) 下線部(e)について、三国干渉から日露戦争開始までの間におこった出来事として正しいものを、下の(ア)~(エ)から選び、記号で答えなさい。
- (ア) 日本は清に二十一カ条の要求をつきつけた。
 (イ) 日英同盟が成立した。
 (ウ) 中国で辛亥革命が発生した。
 (エ) 南満州鉄道株式会社が設立された。
- (7) 下線部(f)について、日露戦争の講和条約を仲介した国を下の(ア)~(エ)から選び、記号で答えなさい。
- (ア) ドイツ (イ) フランス
 (ウ) アメリカ (エ) イギリス
- (8) 文章中の空欄 **あ** ・ **い** にあてはまる文の組み合わせとして正しいものを、下の(ア)~(エ)から選び、記号で答えなさい。
- (ア) **あ** - 関税自主権が回復
い - 治外法権が撤廃
 (イ) **あ** - 治外法権が撤廃
い - 関税自主権が回復
 (ウ) **あ** - 関税自主権が撤廃
い - 治外法権が回復
 (エ) **あ** - 治外法権が回復
い - 関税自主権が撤廃

5. 次の文章を読み、下の問(1)~(7)に答えなさい。

自由競争が行われている市場では、商品の価格は買い手〈消費者〉が希望する購入量、すなわち [1] 量と、売り手〈お店〉が希望する販売量である [2] 量の関係で決まる。

[1] 量が [2] 量をうわ回っている場合には価格が [3] し、[2] 量が [1] 量をうわ回っている場合には価格が [4] する。[1] 量と [2] 量をちょうど一致させる価格は市場価格のなかでもとくに [5] 価格とよばれる。

このように、自由競争のもとでは、[1] と [2] の関係で決まる市場価格がふつうであるが、[1] ・ [2] とは無関係に決まる価格もある。たとえば、(a) 少数の企業が、生産や販売市場を支配するようになると、価格競争が弱まり、少数の企業が足なみをそろえて、価格を設定することがある。また、(b) 郵便・電気・ガス・水道・鉄道などの国民生活にあたる影響が大きいサービスに関しては、国会や政府が決定・認可して価格を設定する。

(1) 文章中の空欄 [1] ・ [2] にあてはまる語句を、それぞれ漢字2字で答えなさい。

(2) 文章中の空欄 [3] ・ [4] にあてはまる語句を、下の(ア)~(ウ)からそれぞれ選び、記号で答えなさい。

(ア) 安定 (イ) 上昇 (ウ) 下落

(3) 文章中の空欄 [5] にあてはまる語句を、漢字2字で答えなさい。

(4) 下線部(a)について、価格競争が弱まり、消費者が不利益をこうむらないように、企業間の競争をうながすために設定された法律を何というか。下の(ア)~(エ)から選び、記号で答えなさい。

(ア) 労働基準法 (イ) 独占禁止法

(ウ) 情報公開法 (エ) 労働組合法

(5) 上記の間(4)の法律の運用にあたっている組織を何というか。

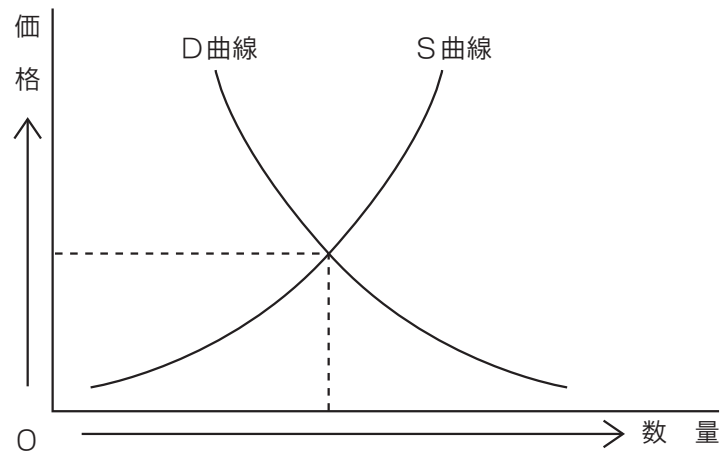
下の(ア)~(エ)から選び、記号で答えなさい。

(ア) 人事院 (イ) 厚生労働省

(ウ) 経済産業省 (エ) 公正取引委員会

(6) 下線部(b)について、このように国会や政府が決定・認可して、統制されている価格を、一般的に何というか。漢字4字で答えなさい。

(7) 次のグラフは、商品の価格と購入量と販売量の関係を示したものである。このグラフにおいて、国民の所得が上昇した場合、グラフ中のD曲線、S曲線と価格の関係はどのように変化するか。正しいものを、下の(ア)~(エ)から選び、記号で答えなさい。



D曲線=買い手(消費者)が希望する購入量を表す
S曲線=売り手(お店)が希望する販売量を表す

(ア) S曲線が左に移動し、価格は上昇する。

(イ) S曲線が右に移動し、価格は下落する。

(ウ) D曲線が右に移動し、価格は上昇する。

(エ) D曲線が左に移動し、価格は下落する。

6. 次の文章を読み、下の問(1)~(7)に答えなさい。

第二次世界大戦中、アメリカ・イギリスなどの主な連合国は、人類を悲劇的な戦争から救うために、戦前の [1] よりも強力な国際機構を新たにつくろうと考えた。

1945年4月にサンフランシスコ会議を開いて、 [2] を採択し、同年10月には、51カ国を原加盟国とする (a) 国際連合 (国連) を設立した。その後、加盟国は増えつづけ、2009年現在、 [3] カ国が加盟している。

国連には、(b) 総会・経済社会理事会・国際司法裁判所・(c) 安全保障理事会・信託統治理事会および事務局の主要機関と、これを助けるいろいろな委員会とが設けられている。また、国連は、国際的課題を解決するため、(d) 各種の専門機関と協力し合っている。

(1) 文章中の空欄 [1] にあてはまる、1920年に設立された国際平和秩序維持のための国際機構の名称を、漢字4字で答えなさい。

(2) 文章中の空欄 [2] にあてはまる、国際社会の憲法といわれるものを、漢字6字で答えなさい。

(3) 文章中の空欄 [3] にあてはまる加盟国数を、下の(ア)~(エ)から選び、記号で答えなさい。

(ア) 92 (イ) 142 (ウ) 192 (エ) 242

(4) 下線部(a)について、国際連合の本部の所在地を、下の(ア)~(エ)から選び、記号で答えなさい。

(ア) ロンドン (イ) ジュネーブ
(ウ) モスクワ (エ) ニューヨーク

(5) 下線部(b)について、次にしめす国連の主要機関A~Cの説明として正しいものを、下の(ア)~(カ)からそれぞれ選び、記号で答えなさい。

A 総会 B 経済社会理事会 C 国際司法裁判所

(ア) 国際紛争を調査し、解決方法を勧告するとともに、侵略国に対して軍事行動をふくむ強制措置をとるよう、加盟国に求めることができる。

(イ) 加盟国から依頼された、条約の解釈や国際法上の問題に関する紛争についての判断をくだす。

(ウ) 国連が管理する非独立地域の指導・援助をする。なお、非独立地域はすべて一応の独立を達成したため、現在、活動は停止されている。

(エ) 文化・社会・教育・保健・経済などに関する国際協力を進め、各国国民の生活水準の向上をはかる仕事をする。

(オ) 国連の各機関の運営に関する事務や連絡の仕事をする。最高責任者は任期5年で、再選も可能である。

(カ) 全加盟国の代表で構成され、毎年1回定期的に開催される会合で、一国一票の投票権をもち、多数決制をとっている。

(6) 下線部(c)について、安全保障理事会における現在の常任理事国の正しい組み合わせを、下の(ア)~(エ)から選び、記号で答えなさい。

(ア) アメリカ・フランス・ドイツ・ロシア・日本
(イ) アメリカ・イギリス・フランス・ロシア・中国
(ウ) アメリカ・イギリス・イタリア・ドイツ・日本
(エ) アメリカ・フランス・イタリア・ドイツ・中国

(7) 下線部(d)について、次にしめす各種の専門機関A~Cの説明として正しいものを、下の(ア)~(カ)からそれぞれ選び、記号で答えなさい。

A UNESCO B WHO C ILO

(ア) 労働条件の向上や社会保障の充実、労働問題の解決などを目的としており、そのために、賃金や雇用条件について勧告したり、労働問題についての条約を採択したりする。

(イ) 紛争や迫害によって故郷を追われた世界の難民の保護と、難民問題の解決に向けた国際的な活動を先導、調整する任務を負う。

(ウ) すべての人に可能な限り高い水準の健康をもたらすことが目標で、伝染病の撲滅や衛生状態の改善などに取り組んでいる。

(エ) 子どもたちが健やかに成長できるように、また、暴力や搾取、過酷な状況から守られるように、それぞれのニーズにあった幅広い支援活動が行われている。

(オ) 諸国民の教育、科学、文化の協力と交流を通じて、国際平和と人類の福祉の促進を目的としている。

(カ) 為替相場の変動によって、自由貿易がそこなわれることのないように、各国の通貨価値を安定させることを目的としている。